



Шифра ученика: |

Укупан број бодова: |

Република Србија

МИНИСТАРСТВО ПРОСВЕТЕ, НАУКЕ И ТЕХНОЛОШКОГ РАЗВОЈА  
ЗАВОД ЗА ВРЕДНОВАЊЕ КВАЛИТЕТА ОБРАЗОВАЊА И ВАСПИТАЊА

школска 2019/2020. година

ТЕСТ

# ТЕОРИЈА МУЗИКЕ

МУЗИЧКИ САРАДНИК

ПРИЈЕМНИ ИСПИТ ЗА УПИС У СРЕДЊЕ МУЗИЧКЕ ШКОЛЕ  
ЗА ШКОЛСКУ 2020/2021. ГОДИНУ

## УПУТСТВО ЗА РАД


- Пред тобом је тест из теорије музике. Тест који треба да решиш има 10 задатака, а за рад је предвиђено **60 минута**. Сваки задатак најпре пажљиво прочитај и размисли о томе шта се у њему тражи.
- Пажљиво прочитај текст сваког задатка јер је у њему објашњено на који начин треба да одговориш (упиши, напиши, одреди, именуј, сагради).
- У квадрат који се налази са десне стране задатка немој ништа уписивати, то је простор у који се уписује број бодова. Током решавања задатака можеш да користиш графитну оловку и гумицу. Током рада не смеш да користиш мобилни телефон.
- На овој и последњој страни немој ништа уписивати.
- Тест мораш да попуниш **хемијском оловком**. Задатке решавај прво графитном оловком јер тако имаш могућност да, уколико уочиш грешку, ту грешку исправиш.
- Пре него што предаш тест, провери своје одговоре још једном, а потом све одговоре напиши хемијском оловком. Одговор који је написан само графитном оловком неће бити признат, као ни одговор који је прецртаван и исправљан хемијском оловком.
- Ако завршиш раније, предај тест дежурном наставнику и тихо изађи да не сметаш другима.

Желимо ти много успеха на пријемном испиту!

\* Тестове, као ни делове тестова, није дозвољено умножавати нити јавно објављивати без претходне сагласности Министарства просвете, науке и технолошког развоја.



1. Упиши задате ноте:



Staff with ten empty measures for note entry.

a1 e1 h d2 b1 ges gis1 dis1 c1 cis2

2. Упиши одговарајуће **предзнаке** за задате лествице:

a) б) в) г)



Staff with four empty measures for key signature entry.

A-dur

f-moll


B-dur

cis-moll

3. Напиши **тонове** следећих лествица:

a)


E-dur



Staff for writing the E-dur scale.

б)

e-moll хармонски



Staff for writing the e-moll harmonic scale.

4. Одреди тип следећих тетра хорда:

a)



Staff showing a tetrad of notes: C4, E4, G4, B4.

б)



Staff showing a tetrad of notes: C4, E4, G4, Bb4.

5. Напиши интервале од следећих тонова **навише**:

м.6      м.2      ч.4      ч.5      в.7      в.3

6. Напиши интервале од следећих тонова **наниже**:

м.3      ч.5      ч.4      м.2      в.6      в.2

7. Именуј следеће интервале:

а)                      б)                      в)                      г)                      д)

\_\_\_\_\_

8. Напиши наведене акорде на задатим тоновима **навише**:

а)                      б)                      в)                      г)

d 5                      m 5                      m 6                      d 6

3                      3                      3                      3

9. Напиши акорде на главним ступњевима **c-moll-a** (хармонски) и означи ступњеве:

\_\_\_\_\_

10. У задатим тоналитетима сагради наведене акорде:

а)                      б)                      в)                      г)

D 7 C- dur-a      D 7 a-moll-a      D 6 D-dur-a      D 7 F-dur-a

5







**Напомена: Ученици НЕ попуњавају ову страну!**

Комисија:

1. \_\_\_\_\_

2. \_\_\_\_\_

3. \_\_\_\_\_

Контролор:

4. \_\_\_\_\_

Школа	
Место	
Презиме и име ученика	