



Republika e Serbisë

MINISTRIA E ARSIMIT, SHKENCËS DHE E ZHVILLIMIT TEKNOLOGJIK
ENTI PËR VLERËSIMIN E CILËSISË SË ARSIMIT DHE TË EDUKIMIT

TESTI GJEOGRAFI

1. Ngjyros rrethin në fushën e duhur duke shënuar funksionet e globit dhe hartës.

	Globi	Harta gjeografike
Paraqet modelin e Tokës.	<input type="radio"/>	<input type="radio"/>
Mundet të paraqes të gjithë botën, por edhe vetëm një shtet.	<input type="radio"/>	<input type="radio"/>
Paraqet largësinë e zvogëluar nga natyra.	<input type="radio"/>	<input type="radio"/>
Asnjëherë nuk e deformon sipërfaqen nga natyra.	<input type="radio"/>	<input type="radio"/>
Shfrytëzohet për orientim në natyrë.	<input type="radio"/>	<input type="radio"/>

2. Ngjyros rrethin përpara pohimit të saktë.

- Meridianët janë vija të imagjinuara gjysmë rrethore të cilat lidhin polin e veriut dhe të jugut.
- Meridianët janë vija të imagjinuara rrethore të cilat e mbështjellin Tokën në drejtimin lindje -perëndim.
- Meridianet janë vija të menduara gjysmë rrethore të gjatësive të ndryshme.
- Meridianët janë vija të imagjinuara rrethore të cilat e mbështjellin Tokën në drejtimin perëndim - lindje.

3. Ngjyros rrethin në fushën e duhur duke lidhur elementet gjeografike të hartës dhe objekteve gjeografike.

	Elementet fiziko-gjeografikë të hartës	Elementet socio-gjeografikë të hartës
Lumi	<input type="radio"/>	<input type="radio"/>
Rruga	<input type="radio"/>	<input type="radio"/>
Miniera	<input type="radio"/>	<input type="radio"/>
Mali	<input type="radio"/>	<input type="radio"/>
Vendbanimi	<input type="radio"/>	<input type="radio"/>

4. Sa ditë i ka viti i brishtë?

Ngjyros rrethin para përgjigjes së saktë.

- 365 ditë
- 366 ditë
- 364 ditë
- 367 ditë

5. Nëse pohimi është i saktë ngjyros rrethin në kolonën E SAKTË, e nëse pohimi nuk është i saktë, ngjyros rrethin para kolonës E PASAKTË.

	E SAKTË	E PASAKTË
1. Ekzistojnë pesë breza të ngrohtësisë.	<input type="radio"/>	<input type="radio"/>
2. Në planet nata më e gjatë është në ditën e parë të dimrit.	<input type="radio"/>	<input type="radio"/>
3. Revolucioni i Tokës zgjatë 24 orë.	<input type="radio"/>	<input type="radio"/>
4. Dielli gjatë ditës duket se lëviz prej lindjes kah perëndimi.	<input type="radio"/>	<input type="radio"/>

6. Ngjyros rrethin përpara përgjigjes së saktë.
Mbështjellësi ujqor i Tokës quhet:

- a) atmosfera
 biosfera
 hidrosfera
 litosfera

7. Ngjyros rrethin nën pohimin e duhur ashtu që pohimi të jetë i saktë.

1. Në Amerikën jugore religjioni më i përhapur është **islami / krishterimi**.

2. Popullsia e gadishullit Apenin kryesisht i takon grupit të popujve **roman / gjerman**.

3. Migrimi paraqet **lëvizjen / plakjen** e popullsisë.

4. Piramida e moshës e cila ka formën e rregullt dhe bazën e gjerë paraqet gjendjen demografike të shtetit i cili ka shtimin natyror **të lartë / të ulët**.

8. Nëse pohimi është i saktë ngjyros rrethin në kolonën E SAKTË, e nëse pohimi nuk është i saktë, ngjyros rrethin para kolonës E PASAKTË.

	E SAKTË	E PASAKTË
1. Evropa me gjithë sipërfaqen e saj gjendet në hemisferën veriore të Tokës.	<input type="radio"/>	<input type="radio"/>
2. Evropa me gjithë sipërfaqen e saj gjendet në hemisferën lindore të Tokës.	<input type="radio"/>	<input type="radio"/>
3. Evropa në perëndim laget nga Oqeani Atlantik.	<input type="radio"/>	<input type="radio"/>
4. Pjesa jugore e Evropës del në detin Mesdhe.	<input type="radio"/>	<input type="radio"/>




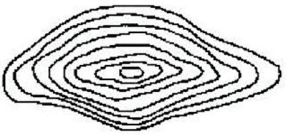

9. Ngjyros rrethin në fushën e duhur duke lidhur objektet gjeografike me kontinentet në të cilat ato ndodhen.

	Atlas	Pirinejet	Andet	Kordileret
Amerika veriore	<input type="radio"/>	<input type="radio"/>	<input type="radio"/>	<input type="radio"/>
Amerika jugore	<input type="radio"/>	<input type="radio"/>	<input type="radio"/>	<input type="radio"/>
Afrika	<input type="radio"/>	<input type="radio"/>	<input type="radio"/>	<input type="radio"/>
Evropa	<input type="radio"/>	<input type="radio"/>	<input type="radio"/>	<input type="radio"/>
Azia	<input type="radio"/>	<input type="radio"/>	<input type="radio"/>	<input type="radio"/>

10. Ngjyros rrethin përpara përgjigjes së saktë.
Nëse lundron tatëpjetë rrjedhës së lumit Nil, atëherë lundron në drejtim të:

- perëndimit;
- lindjes;
- veriut;
- jugut.

11. Ngjyrosni rrethin në fushën e duhur duke lidhur skemën e izohipses me profilin përkatës të terrenit.

			
	<input type="radio"/>	<input type="radio"/>	<input type="radio"/>
	<input type="radio"/>	<input type="radio"/>	<input type="radio"/>

12. Ngjyros rrethin në fushën e duhur duke lidhur trupat qiellorë me përshkrimin e tyre.

	yjet	planetët	kometat	satelitët
trupa qiellorë të errët, të përbërë nga "koka" dhe "bishti"	<input type="radio"/>	<input type="radio"/>	<input type="radio"/>	<input type="radio"/>
trupa të ftohtë qiellorë, shoqërues të planetit	<input type="radio"/>	<input type="radio"/>	<input type="radio"/>	<input type="radio"/>
trupa qiellorë të errët që marrin dritë dhe nxehtësi nga dielli.	<input type="radio"/>	<input type="radio"/>	<input type="radio"/>	<input type="radio"/>
trupa të mëdhenj, të nxehtë të kuq dhe të gaztë	<input type="radio"/>	<input type="radio"/>	<input type="radio"/>	<input type="radio"/>
trupa qiellorë të vegjël e të errët me formë të parregullt	<input type="radio"/>	<input type="radio"/>	<input type="radio"/>	<input type="radio"/>

13. Ngjyros rrethin në fushën e duhur duke lidhur termat e përmendur me format e relievit.

	Forma relievore Eolike	Forma relievore Akullnajore	Forma relievore Karstike
Cirku	<input type="radio"/>	<input type="radio"/>	<input type="radio"/>
Vorbulla	<input type="radio"/>	<input type="radio"/>	<input type="radio"/>
Duna	<input type="radio"/>	<input type="radio"/>	<input type="radio"/>
Shpella	<input type="radio"/>	<input type="radio"/>	<input type="radio"/>
Govata	<input type="radio"/>	<input type="radio"/>	<input type="radio"/>

14. Si quhet rryma detare më e njohur në oqeanin Atlantik?

Ngjyros rrethin para përgjigjes së saktë.

- rryma e Benguelit
- rryma Peruane (e Humbolltit)
- rryma e Golfit
- rryma e Labradorit

15. Ngjyros rrethin përpara përgjigjes së saktë.

Nëse në një regjion shtimi natyror është 5% kjo do të thotë se:

- numri i popullsisë në atë regjion zvogëlohet;
- në çdo 100 banorë numri rritet për 5 banorë;
- ka kërcënim nga eksplodimi demografik;
- në çdo 1 000 banorë numri i popullsisë rritet për 5 banorë.

16. Ngjyros rrethin në fushën e duhur duke lidhur vendin me detin me të cilin ajo ka dalje.

	Sllovenia	Polonia	Rumania	Holanda
Deti i Zi	<input type="radio"/>	<input type="radio"/>	<input type="radio"/>	<input type="radio"/>
Deti i Veriut	<input type="radio"/>	<input type="radio"/>	<input type="radio"/>	<input type="radio"/>
Deti Adriatik	<input type="radio"/>	<input type="radio"/>	<input type="radio"/>	<input type="radio"/>
Deti Egje	<input type="radio"/>	<input type="radio"/>	<input type="radio"/>	<input type="radio"/>
Deti Baltik	<input type="radio"/>	<input type="radio"/>	<input type="radio"/>	<input type="radio"/>

17. Ngjyros rrathët në fushat përkatëse, duke i lidhur nocionet me kuptimin e tyre.

	ngushticë detare	gji detar	gadishull	ishull
Tasmania	<input type="radio"/>	<input type="radio"/>	<input type="radio"/>	<input type="radio"/>
Bab el Mandeb	<input type="radio"/>	<input type="radio"/>	<input type="radio"/>	<input type="radio"/>
Kalifornia	<input type="radio"/>	<input type="radio"/>	<input type="radio"/>	<input type="radio"/>
Karperia	<input type="radio"/>	<input type="radio"/>	<input type="radio"/>	<input type="radio"/>

18. Duke pasur parasysh kushtet e volitshme për zhvillimin e bujqësisë, njëra nga ujdhesat e përmendura theksohet për dendësinë e popullsisë. Cili është ai ishull?

Ngjyros rrethin përpara përgjigjes së saktë.

- Islanda;
- Tasmania;
- Java;
- Toka e zjarrtë.

19. Ngjyros rrathët në fushat përkatëse, kështu që lidhë vargmalet me kontinentet ku gjenden.

	Evropa	Azia	Afrika	Amerika Jugore	Amerika Veriore
Himalajet	<input type="radio"/>	<input type="radio"/>	<input type="radio"/>	<input type="radio"/>	<input type="radio"/>
Andet	<input type="radio"/>	<input type="radio"/>	<input type="radio"/>	<input type="radio"/>	<input type="radio"/>
Alpet	<input type="radio"/>	<input type="radio"/>	<input type="radio"/>	<input type="radio"/>	<input type="radio"/>
Apalashet	<input type="radio"/>	<input type="radio"/>	<input type="radio"/>	<input type="radio"/>	<input type="radio"/>
Atlas	<input type="radio"/>	<input type="radio"/>	<input type="radio"/>	<input type="radio"/>	<input type="radio"/>

20. Ngjyros rrethin në fushën e duhur duke lidhur portin Evropian me lumin në grykën e të cilit ndodhet.

	Rona	Danubi	Rajna	Temza
Roterdam	<input type="radio"/>	<input type="radio"/>	<input type="radio"/>	<input type="radio"/>
Londër	<input type="radio"/>	<input type="radio"/>	<input type="radio"/>	<input type="radio"/>
Marsej	<input type="radio"/>	<input type="radio"/>	<input type="radio"/>	<input type="radio"/>