



Republika Srbija

MINISTARSTVO PROSVJETE, NAUKE I TEHNOLOŠKOG RAZVOJA
ZAVOD ZA VREDNOVANJE KVALITETA OBRAZOVANJA I ODGOJA

TEST

GEOGRAFIJA

1. Oboji kružić u odgovarajućem polju tako što ćeš označiti funkcije globusa i geografske karte.

	Globus	Geografska karta
Predstavlja model Zemlje.	<input type="radio"/>	<input type="radio"/>
Može prikazati cijeli svijet, ali i samo jednu državu.	<input type="radio"/>	<input type="radio"/>
Prikazuje umanjena rastojanja iz prirode.	<input type="radio"/>	<input type="radio"/>
Nikada ne deformiše površine iz prirode.	<input type="radio"/>	<input type="radio"/>
Koristi se za snalaženje u prirodi.	<input type="radio"/>	<input type="radio"/>

2. Oboji kružić ispred tačne tvrdnje.

- Meridijani su zamišljene polukružne linije koje spajaju Sjeverni i Južni pol.
- Meridijani su zamišljene kružne linije koje obavijaju Zemlju u pravcu istok-zapad.
- Meridijani su zamišljene polukružne linije različite dužine.
- Meridijani su zamišljene kružne linije koje obavijaju Zemlju u pravcu zapad-istok.

3. Oboji kružić u odgovarajućem polju tako što ćeš povezati navedene geografske elemente karte i geografske objekte.

	Fizičkogeografski elementi karte	Društvenogeografski elementi karte
rijeka	<input type="radio"/>	<input type="radio"/>
put	<input type="radio"/>	<input type="radio"/>
rudnik	<input type="radio"/>	<input type="radio"/>
planina	<input type="radio"/>	<input type="radio"/>
naselje	<input type="radio"/>	<input type="radio"/>

4. Koliko dana ima prijestupna godina?

Oboji kružić ispred tačnog odgovora.

- 365 dana
- 366 dana
- 364 dana
- 367 dana

5. Ukoliko je tvrdnja tačna oboji kružić u koloni TAČNO, a ukoliko tvrdnja nije tačna, oboji kružić u koloni NETAČNO.

	TAČNO	NETAČNO
1. Postoji pet toplotnih pojaseva.	<input type="radio"/>	<input type="radio"/>
2. Na planeti je najduža noć prvog zimskog dana.	<input type="radio"/>	<input type="radio"/>
3. Revolucija Zemlje traje 24 sata.	<input type="radio"/>	<input type="radio"/>
4. Sunce se u toku dana prividno kreće od istoka ka zapadu.	<input type="radio"/>	<input type="radio"/>

6. Oboji kružić ispred tačnog odgovora.

Vodeni omotač Zemlje naziva se:

- atmosfera;
- biosfera;
- hidrosfera;
- litosfera.

7. Oboji kružić ispod odgovarajućeg pojma tako da tvrdnja bude tačna.

1. U Južnoj Americi najzastupljenija religija je **islam/ hrišćanstvo**.

2. Stanovnici Apeninskog poluotoka većinom pripadaju **romanskoj / germanskoj** grupi naroda.

3. Migracije predstavljaju **kretanje/ starenje** stanovništva.

4. Starosna piramida koja ima pravilan oblik i široku osnovu prikazuje demografsku sliku države koja ima **visok/nizak** prirodni priraštaj.

8. Ukoliko je tvrdnja tačna oboji kružić u koloni TAČNO, a ukoliko tvrdnja nije tačna, oboji kružić u koloni NETAČNO.

	TAČNO	NETAČNO
1. Evropa se cijelom površinom nalazi na sjevernoj Zemljinoj polulopti.	<input type="radio"/>	<input type="radio"/>
2. Evropa se cijelom površinom nalazi na istočnoj Zemljinoj polulopti.	<input type="radio"/>	<input type="radio"/>
3. Evropu na zapadu zapljuskuje Atlantski okean.	<input type="radio"/>	<input type="radio"/>
4. Južni dio Evrope izlazi na Sredozemno more.	<input type="radio"/>	<input type="radio"/>




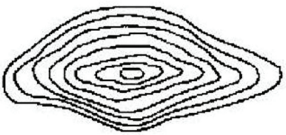

9. Oboji kružić u odgovarajućem polju tako što ćeš povezati geografske objekte sa kontinentima na kojima se oni nalaze.

	Atlas	Pirineji	Andi	Kordiljeri
Sjeverna Amerika	<input type="radio"/>	<input type="radio"/>	<input type="radio"/>	<input type="radio"/>
Južna Amerika	<input type="radio"/>	<input type="radio"/>	<input type="radio"/>	<input type="radio"/>
Afrika	<input type="radio"/>	<input type="radio"/>	<input type="radio"/>	<input type="radio"/>
Evropa	<input type="radio"/>	<input type="radio"/>	<input type="radio"/>	<input type="radio"/>
Azija	<input type="radio"/>	<input type="radio"/>	<input type="radio"/>	<input type="radio"/>

10. Oboji kružić ispred tačnog odgovora.
Ako ploviš nizvodno rijekom Nil, onda putuješ u pravcu:

- zapada;
 istoka;
 sjevera;
 juga.

11. Oboji kružić u odgovarajućem polju tako što ćeš povezati shemu izohipsi sa odgovarajućim profilom terena.

			
	<input type="radio"/>	<input type="radio"/>	<input type="radio"/>
	<input type="radio"/>	<input type="radio"/>	<input type="radio"/>

12. Oboji kružić u odgovarajućem polju tako što ćeš povezati nebeska tijela sa njihovim opisom.

	zvijezde	planete	komete	sateliti
tamna nebeska tijela, sastoje se od „glave“ i „repa“	<input type="radio"/>	<input type="radio"/>	<input type="radio"/>	<input type="radio"/>
hladna nebeska tijela, pratioci planeta	<input type="radio"/>	<input type="radio"/>	<input type="radio"/>	<input type="radio"/>
tamna nebeska tijela, svjetlost i toplotu dobijaju od Sunca	<input type="radio"/>	<input type="radio"/>	<input type="radio"/>	<input type="radio"/>
velika, usijana i gasovita nebeska tijela	<input type="radio"/>	<input type="radio"/>	<input type="radio"/>	<input type="radio"/>
mala, tamna nebeska tijela nepravilnog oblika	<input type="radio"/>	<input type="radio"/>	<input type="radio"/>	<input type="radio"/>

- 13.** Oboji kružić u odgovarajućem polju tako što ćeš povezati navedene pojmove sa oblicima reljefa.

	Eolski oblik reljefa	Lednički oblik reljefa	Kraški oblik reljefa
Cirk	<input type="radio"/>	<input type="radio"/>	<input type="radio"/>
Vrtača	<input type="radio"/>	<input type="radio"/>	<input type="radio"/>
Dina	<input type="radio"/>	<input type="radio"/>	<input type="radio"/>
Pećina	<input type="radio"/>	<input type="radio"/>	<input type="radio"/>
Valov	<input type="radio"/>	<input type="radio"/>	<input type="radio"/>

- 14.** Kako se zove najpoznatija topla morska struja u Atlantskom okeanu?

Oboji kružić ispred tačnog odgovora.

- Benguelska struja
- Peruanska (Humboltova) struja
- Golska struja
- Labradorska struja

- 15.** Oboji kružić ispred tačnog odgovora.

Ako u jednoj regiji prirodni priraštaj 5‰, to znači:

- da se broj stanovnika u toj regiji smanjuje;
- da se na svakih 100 stanovnika broj poveća za 5 stanovnika;
- da prijeti demografska eksplozija;
- da se na svakih 1 000 stanovnika broj poveća za 5 stanovnika.

- 16.** Oboji kružić u odgovarajućem polju tako što ćeš povezati državu sa morem na koje ona izlazi.

	Slovenija	Poljska	Rumunija	Holandija
Crno more	<input type="radio"/>	<input type="radio"/>	<input type="radio"/>	<input type="radio"/>
Sjeverno more	<input type="radio"/>	<input type="radio"/>	<input type="radio"/>	<input type="radio"/>
Jadransko more	<input type="radio"/>	<input type="radio"/>	<input type="radio"/>	<input type="radio"/>
Egejsko more	<input type="radio"/>	<input type="radio"/>	<input type="radio"/>	<input type="radio"/>
Baltičko more	<input type="radio"/>	<input type="radio"/>	<input type="radio"/>	<input type="radio"/>

17. Oboji kružić u odgovarajućem polju tako što ćeš povezati pojmove sa njihovim značenjem.

	moreuz	zaljev	poluotok	otok
Tasmanija	<input type="radio"/>	<input type="radio"/>	<input type="radio"/>	<input type="radio"/>
Bab el Mandeb	<input type="radio"/>	<input type="radio"/>	<input type="radio"/>	<input type="radio"/>
Kalifornija	<input type="radio"/>	<input type="radio"/>	<input type="radio"/>	<input type="radio"/>
Karantarijski	<input type="radio"/>	<input type="radio"/>	<input type="radio"/>	<input type="radio"/>

18. Imajući u vidu povoljne uvjete za razvoj poljoprivrede, jedan od navedenih otoka ističe se po velikoj gustini naseljenosti. Koji je to otok?

Oboji kružić ispred tačnog odgovora.

- Island
- Tasmanija
- Java
- Ognjena zemlja

19. Oboji kružić u odgovarajućem polju tako što ćeš povezati planinske vijence sa kontinentima na kojima se nalaze.

	Evropa	Azija	Afrika	Južna Amerika	Sjeverna Amerika
Himalaji	<input type="radio"/>	<input type="radio"/>	<input type="radio"/>	<input type="radio"/>	<input type="radio"/>
Andi	<input type="radio"/>	<input type="radio"/>	<input type="radio"/>	<input type="radio"/>	<input type="radio"/>
Alpi	<input type="radio"/>	<input type="radio"/>	<input type="radio"/>	<input type="radio"/>	<input type="radio"/>
Apalači	<input type="radio"/>	<input type="radio"/>	<input type="radio"/>	<input type="radio"/>	<input type="radio"/>
Atlas	<input type="radio"/>	<input type="radio"/>	<input type="radio"/>	<input type="radio"/>	<input type="radio"/>

20. Oboji kružić u odgovarajućem polju tako što ćeš povezati evropsku luku sa rijekom na čijem se ušću ona nalazi.

	Rona	Dunav	Rajna	Temza
Rotterdam	<input type="radio"/>	<input type="radio"/>	<input type="radio"/>	<input type="radio"/>
London	<input type="radio"/>	<input type="radio"/>	<input type="radio"/>	<input type="radio"/>
Marselj	<input type="radio"/>	<input type="radio"/>	<input type="radio"/>	<input type="radio"/>