



Република Ср̀бия

МИНИСТЕРСТВО НА ПРОСВЕТАТА, НАУКАТА И ТЕХНОЛОГИЧЕСКОТО РАЗВИТИЕ  
ИНСТИТУТ ЗА ОЦЕНЯВАНЕ КАЧЕСТВОТО НА ОБРАЗОВАНИЕТО И ВЪЗПИТАНИЕТО

---

# ТЕСТ ПО ГЕОГРАФИЯ

---

1. Оцвети кръгчетата в съответното поле, като маркирате функциите на глобуса и картата.

	глобус	географска карта
Представява модел на Земята.	<input type="radio"/>	<input type="radio"/>
Може да покаже целия свят, но и само една държава.	<input type="radio"/>	<input type="radio"/>
Показва умалено разстояние от природата.	<input type="radio"/>	<input type="radio"/>
Никога не деформира повърхности от природата.	<input type="radio"/>	<input type="radio"/>
Използва се за ориентация в природата.	<input type="radio"/>	<input type="radio"/>

2. Оцвети кръгчето пред правилното твърдение.

- Меридианите са въображаеми полукръгови линии, свързващи Северния и Южния полюс.
- Меридианите са въображаеми кръгови линии, които обвиват Земята в посока изток-запад.
- Меридианите са въображаеми полукръгли линии с различна дължина.
- Меридианите са въображаеми кръгови линии, които обвиват Земята в посока запад-изток.

3. Оцвети кръгчетата в съответното поле, като свържеш изброените географски елементи на картата и географските обекти.

	Физико-географски елементи на картата	Социално-географски елементи на картата
река	<input type="radio"/>	<input type="radio"/>
път	<input type="radio"/>	<input type="radio"/>
мина	<input type="radio"/>	<input type="radio"/>
планина	<input type="radio"/>	<input type="radio"/>
селище	<input type="radio"/>	<input type="radio"/>

4. Колко дни има високосната година?  
Оцвети кръгчето пред верния отговор.

- 365 дни
- 366 дни
- 364 дни
- 367 дни

5. Ако твърдението е вярно, оцвети кръгчето в колоната с ВЯРНО, а ако твърдението невярно, оцвети кръгчето в колоната с НЕВЯРНО.

	ВЯРНО	НЕВЯРНО
1. Съществуват пет топлинни пояса на Земята.	<input type="radio"/>	<input type="radio"/>
2. Най-дългата нощ на планетата се пада в първия ден на зимата.	<input type="radio"/>	<input type="radio"/>
3. Обиколката на Земята около Слънцето продължава 24 часа.	<input type="radio"/>	<input type="radio"/>
4. През деня Слънцето привидно се движи от изток на запад.	<input type="radio"/>	<input type="radio"/>

6. Оцвети кръгчето пред верния отговор.  
Водната обвивка на Земята се нарича:

- атмосфера  
 биосфера  
 хидросфера  
 литосфера

7. Оцвети кръгчето под подходящото понятие, така че твърдението да е вярно.

1. Най-разпространената религия в Южна Америка е **ислямът** / **християнството**.

2. Жителите на Апенинския полуостров принадлежат в по-голямата си част към **романската** / **германската** група народи.

3. Миграциите представляват **движение** / **застаряване** на населението.

4. Полово-възрастовата пирамида, която има правилна форма, показва демографска картина на държавата с **висок** / **нисък** естествен прираст.

8. Написани са четири твърдения. Ако твърдението е точно, закръгли буквата Т, ако не е точно, закръгли буквата Н.

	ВЯРНО	НЕВЯРНО
1. Европа се намира в Северното полукълбо на Земята с цялата си повърхност.	<input type="radio"/>	<input type="radio"/>
2. Европа се намира в Източното полукълбо на Земята с цялата си повърхност.	<input type="radio"/>	<input type="radio"/>
3. Европа на запад граничи с Атлантическия океан.	<input type="radio"/>	<input type="radio"/>
4. Южната част на Европа излиза на Средиземно море.	<input type="radio"/>	<input type="radio"/>

9. Оцвети кръгчетата в съответното поле чрез свързване на географски обекти с континентите, на които се намират.




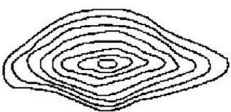

	Атласки планини	Пиренеи	Анди	Кордилери
Северна Америка	<input type="radio"/>	<input type="radio"/>	<input type="radio"/>	<input type="radio"/>
Южна Америка	<input type="radio"/>	<input type="radio"/>	<input type="radio"/>	<input type="radio"/>
Африка	<input type="radio"/>	<input type="radio"/>	<input type="radio"/>	<input type="radio"/>
Европа	<input type="radio"/>	<input type="radio"/>	<input type="radio"/>	<input type="radio"/>
Азия	<input type="radio"/>	<input type="radio"/>	<input type="radio"/>	<input type="radio"/>

10. Оцвети кръгчето пред верния отговор.

Ако плаваш надолу по течението на реката Нил, тогава пътуваш в посока:

- запад;
- изток;
- север;
- юг.

11. Оцвети кръгчетата в съответното поле чрез свързване на схемата на изохипси със съответния профил на терена.

			
	<input type="radio"/>	<input type="radio"/>	<input type="radio"/>
	<input type="radio"/>	<input type="radio"/>	<input type="radio"/>

12. Оцвети кръгчетата в съответното поле чрез свързване на небесните тела с тяхното описание.

	звезди	планети	комети	спътници
тъмни небесни тела, състоящи се от „глава“ и „опашка“	<input type="radio"/>	<input type="radio"/>	<input type="radio"/>	<input type="radio"/>
студени небесни тела, които спътстват планетите	<input type="radio"/>	<input type="radio"/>	<input type="radio"/>	<input type="radio"/>
тъмни небесни тела, които получават светлина и топлина от Слънцето	<input type="radio"/>	<input type="radio"/>	<input type="radio"/>	<input type="radio"/>
големи, горещи и газообразни небесни тела	<input type="radio"/>	<input type="radio"/>	<input type="radio"/>	<input type="radio"/>
малки, тъмни небесни тела с неправилна форма	<input type="radio"/>	<input type="radio"/>	<input type="radio"/>	<input type="radio"/>

13. Оцвети кръгчетата в съответното поле рез свързване на горните термини с формите на релефа.

	Еолични (дефлационни) форми на релефа	Ледникови (гляциални) форми на релефа	Карстови форми на релефа
Циркус	<input type="radio"/>	<input type="radio"/>	<input type="radio"/>
Въртоп	<input type="radio"/>	<input type="radio"/>	<input type="radio"/>
Дюна	<input type="radio"/>	<input type="radio"/>	<input type="radio"/>
Пещера	<input type="radio"/>	<input type="radio"/>	<input type="radio"/>
Трогова долина	<input type="radio"/>	<input type="radio"/>	<input type="radio"/>

14. Как се нарича най-известното топло океанско течение в Атлантическия океан?

Оцвети кръгчето пред верния отговор.

- Бенгуелско течение  
 Перуанско (Хумболтово) течение  
 Гълфстрийм  
 Лабрадорско течение

15. Оцвети кръгчето пред верния отговор.

Ако естественият прираст в даден регион е 5%, това означава, че:

- броят на жителите в този регион намалява;  
 на всеки 100 жители броят на жителите се увеличава с 5 жители;  
 регионът е заплашен от демографски взрив;  
 на всеки 1000 жители броят на жителите се увеличава с 5.

16. Оцвети кръгчетата в съответното поле, като свържеш страната с морето, към което има достъп.

	Словения	Полша	Румъния	Нидерландия
Черно море	<input type="radio"/>	<input type="radio"/>	<input type="radio"/>	<input type="radio"/>
Северно море	<input type="radio"/>	<input type="radio"/>	<input type="radio"/>	<input type="radio"/>
Адриатическо море	<input type="radio"/>	<input type="radio"/>	<input type="radio"/>	<input type="radio"/>
Егейско море	<input type="radio"/>	<input type="radio"/>	<input type="radio"/>	<input type="radio"/>
Балтийско море	<input type="radio"/>	<input type="radio"/>	<input type="radio"/>	<input type="radio"/>

17. Оцвети кръгчето в съответното поле, като свържете понятията с тяхното значение.

	проток	залив	полуостров	острво
Тасмания	<input type="radio"/>	<input type="radio"/>	<input type="radio"/>	<input type="radio"/>
Баб ел Мандеб	<input type="radio"/>	<input type="radio"/>	<input type="radio"/>	<input type="radio"/>
Калифорния	<input type="radio"/>	<input type="radio"/>	<input type="radio"/>	<input type="radio"/>
Карпентария	<input type="radio"/>	<input type="radio"/>	<input type="radio"/>	<input type="radio"/>

18. Имайки предвид благоприятните условия за развитие на селското стопанство, един от посочените острови се откроява с голяма гъстота на населението. Кой е този остров?

Оцвети кръгчето пред верния отговор.

- Исландия;
- Тасмания;
- Ява;
- Огнена земя.

19. Кои европейски държави не трябва да копаят тунели за по-добра транспортна връзка помежду си?

	Европа	Азия	Африка	Южна Америка	Северна Америка
Хималаи	<input type="radio"/>	<input type="radio"/>	<input type="radio"/>	<input type="radio"/>	<input type="radio"/>
Анди	<input type="radio"/>	<input type="radio"/>	<input type="radio"/>	<input type="radio"/>	<input type="radio"/>
Алпи	<input type="radio"/>	<input type="radio"/>	<input type="radio"/>	<input type="radio"/>	<input type="radio"/>
Апалачи	<input type="radio"/>	<input type="radio"/>	<input type="radio"/>	<input type="radio"/>	<input type="radio"/>
Атласки планини	<input type="radio"/>	<input type="radio"/>	<input type="radio"/>	<input type="radio"/>	<input type="radio"/>

20. Оцвети кръгчетата в съответното поле чрез свързване на европейското пристанище с реката, с устието където се намира.

	Рона	Дунав	Рейн	Темза
Ротердам	<input type="radio"/>	<input type="radio"/>	<input type="radio"/>	<input type="radio"/>
Лондон	<input type="radio"/>	<input type="radio"/>	<input type="radio"/>	<input type="radio"/>
Марсилия	<input type="radio"/>	<input type="radio"/>	<input type="radio"/>	<input type="radio"/>