



Szerb Köztársaság

OKTATÁSI, TUDOMÁNYÜGYI ÉS TECHNOLÓGIAI FEJLESZTÉSI MINISZTERIUM
OKTATÁSI ÉS NEVELÉSI MINŐSÉGELLENŐRZŐ INTÉZET

TESZT FÖLDRAJZ

1. Fesd be a megfelelő mezőben lévő köröcskét úgy, hogy megjelöld a földgömb és a térkép funkcióit!

	Földgömb	Földrajzi térkép
Föld-modell.	<input type="radio"/>	<input type="radio"/>
Bemutathatja az egész Földet vagy csak egy országot.	<input type="radio"/>	<input type="radio"/>
Bemutatja a valóságból kisebbitett távolságokat.	<input type="radio"/>	<input type="radio"/>
Sohasem deformálódnak a területek.	<input type="radio"/>	<input type="radio"/>
A természetbeni tájékozódásra használják.	<input type="radio"/>	<input type="radio"/>

2. Fesd be a helyes állítás előtti köröcskét!

- A délkörök elképzelt félkörök, amelyek összekötik az Északi-sarkot a Déli-sarkkal.
- A délkörök elképzelt körvonalak, amelyek a Földet kelet-nyugati irányban veszik körül.
- A délkörök különböző hosszúságú elképzelt félkörök.
- A délkörök elképzelt körvonalak, amelyek a Földet nyugat-keleti irányban veszik körül.

3. Fesd be a megfelelő mezőben lévő köröcskét úgy, hogy párosítod a térkép adott földrajzi elemeit a földrajzi objektumokkal!

	Természetföldrajzi elemek	Társadalomföldrajzi elemek
folyó	<input type="radio"/>	<input type="radio"/>
út	<input type="radio"/>	<input type="radio"/>
bánya	<input type="radio"/>	<input type="radio"/>
hegy	<input type="radio"/>	<input type="radio"/>
település	<input type="radio"/>	<input type="radio"/>

4. Hány nap van a szökőévben?

Fesd be a helyes válasz előtti köröcskét!

- 365 nap
- 366 nap
- 364 nap
- 367 nap

5. Amennyiben az állítás helyes, ferd be a HELYES, amennyiben helytelen, akkor ferd be a HELYTELEN oszlopban lévő köröcskét!

	HELYES	HELYTELEN
1. Öt hőmérsékleti övezet vagy égöv van.	<input type="radio"/>	<input type="radio"/>
2. Bolygónkon a leghosszabb az éjszaka a tél első napján.	<input type="radio"/>	<input type="radio"/>
3. A Föld revolúciója/Nap körüli mozgása 24 óráig tart.	<input type="radio"/>	<input type="radio"/>
4. Napközben a Nap látszólagosan keletről nyugat felé mozog.	<input type="radio"/>	<input type="radio"/>

6. Ferd be a helyes válasz előtti köröcskét!

A Föld vízburkának megnevezése:

- atmoszféra;
- bioszféra;
- hidroszféra;
- litoszféra.

7. Ferd be a megfelelő kifejezés alatti köröcskét úgy, hogy az állítás helyes legyen!

- 1. Dél-Amerikában a legelterjedtebb vallás az **iszlám/keresztény**.
- 2. Az Appennini-félsziget lakosságának többsége a **román/germán** népcsoportéhoz tartozik.
- 3. Migráció alatt a népesség **vándorlását/elöregedését** értjük.
- 4. A szabályos alakú és széles alapú korpíramis azon országok demográfiai mutatója, ahol **magas/alacsony** a természetes szaporodás.

8. Amennyiben az állítás helyes, ferd be a HELYES, amennyiben helytelen, akkor ferd be a HELYTELEN oszlopban lévő köröcskét!

	HELYES	HELYTELEN
1. Európa területének egésze az északi félgömbön helyezkedik el.	<input type="radio"/>	<input type="radio"/>
2. Európa területének egésze a keleti félgömbön helyezkedik el.	<input type="radio"/>	<input type="radio"/>
3. Európa partjait nyugaton az Atlanti-óceán mossa.	<input type="radio"/>	<input type="radio"/>
4. Európa déli részének kijárata van a Földközi-tengerre.	<input type="radio"/>	<input type="radio"/>




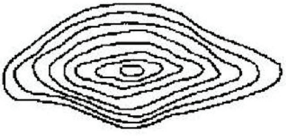

9. Fesd be a megfelelő mezőben lévő köröcskét úgy, hogy párosítod a földrajzi objektumot a kontinenssel, amelyen található!

	Atlasz	Pireneusok	Andok	Kordillerák
Észak-Amerika	<input type="radio"/>	<input type="radio"/>	<input type="radio"/>	<input type="radio"/>
Dél-Amerika	<input type="radio"/>	<input type="radio"/>	<input type="radio"/>	<input type="radio"/>
Afrika	<input type="radio"/>	<input type="radio"/>	<input type="radio"/>	<input type="radio"/>
Európa	<input type="radio"/>	<input type="radio"/>	<input type="radio"/>	<input type="radio"/>
Ázsia	<input type="radio"/>	<input type="radio"/>	<input type="radio"/>	<input type="radio"/>

10. Milyen irányban haladsz, ha a Níluson folyásirányban hajózol?
Fesd be a helyes válasz előtti köröcskét!

- nyugatra
 keletre
 északra
 délre

11. Fesd be a megfelelő mezőben lévő köröcskét úgy, hogy párosítod a felülnézeti sémát a megfelelő domborzati metszettel!

			
	<input type="radio"/>	<input type="radio"/>	<input type="radio"/>
	<input type="radio"/>	<input type="radio"/>	<input type="radio"/>

12. Fesd be a megfelelő mezőben lévő köröcskét úgy, hogy párosítod az égitestet a leírásával!

	csillag	bolygó	üstökös	hold
sötét égitest, fejből és csóvából áll	<input type="radio"/>	<input type="radio"/>	<input type="radio"/>	<input type="radio"/>
hideg égitest, a bolygó kísérője	<input type="radio"/>	<input type="radio"/>	<input type="radio"/>	<input type="radio"/>
hideg égitest, a fényt és a hőt a Naptól kapja	<input type="radio"/>	<input type="radio"/>	<input type="radio"/>	<input type="radio"/>
nagy, izzó és gáz-halmazállapotú égitest	<input type="radio"/>	<input type="radio"/>	<input type="radio"/>	<input type="radio"/>
kicsi, sötét, szabálytalan alakú égitest	<input type="radio"/>	<input type="radio"/>	<input type="radio"/>	<input type="radio"/>

- 13.** Fesd be a megfelelő mezőben lévő köröcskét úgy, hogy párosítod a fogalmakat a domborzati formáival!

	Eolikus domborzati forma	Glaciális domborzati forma	Karsztvidéki domborzati forma
cirk	<input type="radio"/>	<input type="radio"/>	<input type="radio"/>
víznyelő	<input type="radio"/>	<input type="radio"/>	<input type="radio"/>
dűne	<input type="radio"/>	<input type="radio"/>	<input type="radio"/>
barlang	<input type="radio"/>	<input type="radio"/>	<input type="radio"/>
teknővölgy	<input type="radio"/>	<input type="radio"/>	<input type="radio"/>

- 14.** Melyik a legismertebb meleg tengeráramlás az Atlanti-óceánban?

Fesd be a helyes válasz előtti köröcskét!

- Benguela-áramlás
- Perui (Humboldt)-áramlás
- Golf-áramlás
- Labrador-áramlás

- 15.** Fesd be a helyes válasz előtti köröcskét!

Ha egy területen a természetes szaporodás 5%:

- azt jelenti, hogy ott a lakosok száma csökken;
- azt jelenti, hogy 100 lakosonként 5 lakossal növekszik a számuk;
- azt jelenti, hogy demográfiai robbanástól kell tartani;
- azt jelenti, hogy 1000 lakosonként 5 lakossal növekszik a számuk.

- 16.** Fesd be a megfelelő mezőben lévő köröcskét úgy, hogy párosítod az országot azzal a tengerrel, amelyikre van kijárata!

	Szlovénia	Lengyelország	Románia	Hollandia
Fekete-tenger	<input type="radio"/>	<input type="radio"/>	<input type="radio"/>	<input type="radio"/>
Északi-tenger	<input type="radio"/>	<input type="radio"/>	<input type="radio"/>	<input type="radio"/>
Adriai-tenger	<input type="radio"/>	<input type="radio"/>	<input type="radio"/>	<input type="radio"/>
Égei-tenger	<input type="radio"/>	<input type="radio"/>	<input type="radio"/>	<input type="radio"/>
Balti-tenger	<input type="radio"/>	<input type="radio"/>	<input type="radio"/>	<input type="radio"/>

17. Fesd be a köröcskéket oly módon, hogy a fogalmakat összekötöd a jelentésükkel!

	tengerszoros	öböl	félsziget	sziget
Tasmánia	<input type="radio"/>	<input type="radio"/>	<input type="radio"/>	<input type="radio"/>
Bab el-Mandeb	<input type="radio"/>	<input type="radio"/>	<input type="radio"/>	<input type="radio"/>
Kalifornia	<input type="radio"/>	<input type="radio"/>	<input type="radio"/>	<input type="radio"/>
Carpentaria	<input type="radio"/>	<input type="radio"/>	<input type="radio"/>	<input type="radio"/>

18. A kedvező mezőgazdasági fejlődésnek köszönhetően a felsorolt szigetek közül az egyiknek kiemelkedően magas a népsűrűsége. Melyik ez a sziget?

Fesd be a helyes válasz előtti köröcskét!

- Izland
- Tasmánia
- Jáva
- Tűzföld

19. Határozd meg, hogy a felsorolt hegyek, mely kontinensen húzódnak! Fesd be a megfelelő köröcskét!

	Európa	Ázsia	Afrika	Dél-Amerika	Észak-Amerika
Himalája	<input type="radio"/>	<input type="radio"/>	<input type="radio"/>	<input type="radio"/>	<input type="radio"/>
Andok	<input type="radio"/>	<input type="radio"/>	<input type="radio"/>	<input type="radio"/>	<input type="radio"/>
Alpok	<input type="radio"/>	<input type="radio"/>	<input type="radio"/>	<input type="radio"/>	<input type="radio"/>
Appalache	<input type="radio"/>	<input type="radio"/>	<input type="radio"/>	<input type="radio"/>	<input type="radio"/>
Atlasz	<input type="radio"/>	<input type="radio"/>	<input type="radio"/>	<input type="radio"/>	<input type="radio"/>

20. Fesd be a megfelelő mezőben lévő köröcskét úgy, hogy párosítod az európai kikötővárost a folyóval, melynek torkolatánál található!

	Rhône	Duna	Rajna	Temze
Rotterdam	<input type="radio"/>	<input type="radio"/>	<input type="radio"/>	<input type="radio"/>
London	<input type="radio"/>	<input type="radio"/>	<input type="radio"/>	<input type="radio"/>
Marseille	<input type="radio"/>	<input type="radio"/>	<input type="radio"/>	<input type="radio"/>