



Republica Serbia

MINISTERUL ÎNVĂȚĂMÂNTULUI, ȘTIINȚEI ȘI DEZVOLTĂRII TEHNOLOGICE
INSTITUTUL PENTRU EVALUAREA CALITĂȚII ÎNVĂȚĂMÂNTULUI ȘI EDUCAȚIEI

TESTUL GEOGRAFIE

1. Colorează cerculețul în spațiul corespunzător, astfel încât să marchezi funcțiile globului și ale hărții geografice.

	Glob	Hartă geografică
Reprezintă modelul Pământului.	<input type="radio"/>	<input type="radio"/>
Poate să prezinte lumea întreagă, dar și doar o singură țară.	<input type="radio"/>	<input type="radio"/>
Prezintă distanța micșorată din natură.	<input type="radio"/>	<input type="radio"/>
Niciodată nu deformează suprafețele din natură.	<input type="radio"/>	<input type="radio"/>
Se folosește la orientarea în natură.	<input type="radio"/>	<input type="radio"/>

2. Colorează cerculețul din dreptul afirmației adevărate.

- Meridianele sunt semicercuri imaginare, care unesc polul Nord și polul Sud.
- Meridianele sunt cercuri imaginare care înfășoară Pământul, pe direcția est-vest.
- Meridianele sunt semicercuri imaginare de diferite lungimi.
- Meridianele sunt cercuri imaginare care înfășoară Pământul, pe direcția vest-est.

3. Colorează cerculețul în spațiul corespunzător, astfel încât să legi elementele geografice ale hărții și obiectivele geografice menționate.

	Elementele fizico-geografice ale hărții	Elementele socio-geografice ale hărții
râu	<input type="radio"/>	<input type="radio"/>
drum	<input type="radio"/>	<input type="radio"/>
mină	<input type="radio"/>	<input type="radio"/>
munte	<input type="radio"/>	<input type="radio"/>
localitate	<input type="radio"/>	<input type="radio"/>

4. Câte zile are anul bisect?

Colorează cerculețul din dreptul răspunsului corect.

- 365 zile
- 366 zile
- 364 zile
- 367 zile

5. Dacă afirmația este adevărată, colorează cerculețul din coloana ADEVĂRAT, iar dacă este falsă, colorează cerculețul din coloana FALS.

	ADEVĂRAT	FALS
1. Există cinci zone de căldură.	<input type="radio"/>	<input type="radio"/>
2. Pe planetă, cea mai lungă noapte este în prima zi de iarnă.	<input type="radio"/>	<input type="radio"/>
3. Revoluția Pământului durează 24 de ore.	<input type="radio"/>	<input type="radio"/>
4. În timpul zilei, Soarele se mișcă aparent de la est spre vest.	<input type="radio"/>	<input type="radio"/>

6. Colorează cerculețul din dreptul răspunsului corect.

Învelișul de apă al Pământului se numește:

- atmosfera;
 biosfera;
 hidrosfera;
 litosfera.

7. Colorează cerculețul de sub noțiunea corespunzătoare, astfel încât afirmația să fie adevărată.

1. În America de Sud, religia predominantă este **islamul** / **creștinismul**.

2. Locuitorii Peninsulei Apenine aparțin, în majoritate, grupului de popoare **romanice** / **germanice**.

3. Migrațiile reprezintă **deplasarea** / **îmbătrânirea** populației.

4. Piramida vârstelor, care are forma regulată și baza largă, arată imaginea demografică a unei țări care are un spor natural **ridicat** / **scăzut**.

8. Dacă afirmația este adevărată, colorează cerculețul din coloana ADEVĂRAT, iar dacă este falsă, colorează cerculețul din coloana FALS.

	ADEVĂRAT	FALS
1. Toată suprafața Europei se găsește pe emisfera nordică a Pământului.	<input type="radio"/>	<input type="radio"/>
2. Toată suprafața Europei se găsește pe emisfera estică a Pământului.	<input type="radio"/>	<input type="radio"/>
3. La vest, Europa este scăldată de Oceanul Atlantic.	<input type="radio"/>	<input type="radio"/>
4. Partea sudică a Europei are ieșire la Marea Mediterană.	<input type="radio"/>	<input type="radio"/>

9. Colorează cerculețul în spațiul corespunzător, astfel încât să legi obiectivele geografice cu continentele pe care se găsesc acestea.




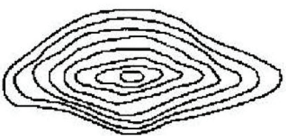

	Atlas	Pirinei	Anzi	Cordilieri
America de Nord	<input type="radio"/>	<input type="radio"/>	<input type="radio"/>	<input type="radio"/>
America de Sud	<input type="radio"/>	<input type="radio"/>	<input type="radio"/>	<input type="radio"/>
Africa	<input type="radio"/>	<input type="radio"/>	<input type="radio"/>	<input type="radio"/>
Europa	<input type="radio"/>	<input type="radio"/>	<input type="radio"/>	<input type="radio"/>
Asia	<input type="radio"/>	<input type="radio"/>	<input type="radio"/>	<input type="radio"/>

10. Colorează cerculețul din dreptul răspunsului corect.

Dacă navighezi în aval (în josul fluviului), pe fluviul Nil, atunci călătorești în direcția:

- vest;
 est;
 nord;
 sud.

11. Colorează cerculețul în spațiul corespunzător, astfel încât să legi schema izohipselor cu profilul corespunzător al terenului.

			
	<input type="radio"/>	<input type="radio"/>	<input type="radio"/>
	<input type="radio"/>	<input type="radio"/>	<input type="radio"/>

12. Colorează cerculețul în spațiul corespunzător, astfel încât să legi corpurile cerești cu descrierea lor.

	stele	planete	comete	sateliți
corpuri cerești întunecoase, alcătuite din „cap” și „coadă”	<input type="radio"/>	<input type="radio"/>	<input type="radio"/>	<input type="radio"/>
corpuri cerești reci, care urmăresc planetele	<input type="radio"/>	<input type="radio"/>	<input type="radio"/>	<input type="radio"/>
corpuri cerești întunecoase, primesc lumina și căldura de la Soare	<input type="radio"/>	<input type="radio"/>	<input type="radio"/>	<input type="radio"/>
corpuri cerești mari, fierbinți și gazoase	<input type="radio"/>	<input type="radio"/>	<input type="radio"/>	<input type="radio"/>
corpuri cerești mici, întunecoase, de formă neregulată	<input type="radio"/>	<input type="radio"/>	<input type="radio"/>	<input type="radio"/>

- 13.** Colorează cerculețul în spațiul corespunzător, astfel încât să legi noțiunile menționate cu formele de relief.

	Formă de relief eoliană	Formă de relief glaciară	Formă de relief carstică
Circ	<input type="radio"/>	<input type="radio"/>	<input type="radio"/>
Dolină	<input type="radio"/>	<input type="radio"/>	<input type="radio"/>
Dună	<input type="radio"/>	<input type="radio"/>	<input type="radio"/>
Peșteră	<input type="radio"/>	<input type="radio"/>	<input type="radio"/>
Morenă	<input type="radio"/>	<input type="radio"/>	<input type="radio"/>

- 14.** Cum se numește cel mai cunoscut curent marin cald din Oceanul Atlantic?

Colorează cerculețul din dreptul răspunsului corect.

- Curentul Benguelei
- Curentul Perului (Humboldt)
- Curentul Golfului
- Curentul Labradorului

- 15.** Colorează cerculețul din dreptul răspunsului corect.

Dacă într-o regiune, sporul natural este 5‰, aceasta înseamnă:

- că numărul locuitorilor în acea regiune se micșorează;
- că la fiecare 100 locuitori, numărul locuitorilor se mărește cu 5 locuitori;
- că „amenință” explozia demografică;
- că la fiecare 1000 locuitori, numărul locuitorilor crește cu 5 locuitori.

- 16.** Colorează cerculețul în spațiul corespunzător, astfel încât să legi țara cu marea la care are ieșire.

	Slovenia	Polonia	România	Olanda
Marea Neagră	<input type="radio"/>	<input type="radio"/>	<input type="radio"/>	<input type="radio"/>
Marea Nordului	<input type="radio"/>	<input type="radio"/>	<input type="radio"/>	<input type="radio"/>
Marea Adriatică	<input type="radio"/>	<input type="radio"/>	<input type="radio"/>	<input type="radio"/>
Marea Egee	<input type="radio"/>	<input type="radio"/>	<input type="radio"/>	<input type="radio"/>
Marea Baltică	<input type="radio"/>	<input type="radio"/>	<input type="radio"/>	<input type="radio"/>

17. Colorează cerculețul în spațiul corespunzător, astfel că vei lega noțiunile cu semnificația lor.

	strâmtoare	golf	peninsulă	insulă
Tasmania	<input type="radio"/>	<input type="radio"/>	<input type="radio"/>	<input type="radio"/>
Bab el Mandeb	<input type="radio"/>	<input type="radio"/>	<input type="radio"/>	<input type="radio"/>
California	<input type="radio"/>	<input type="radio"/>	<input type="radio"/>	<input type="radio"/>
Carpentaria	<input type="radio"/>	<input type="radio"/>	<input type="radio"/>	<input type="radio"/>

18. Având în vedere condițiile favorabile de dezvoltare a agriculturii, una din insulele enumerate se evidențiază prin densitatea mare a populației. Care este această insulă?
Colorează cerculețul din dreptul răspunsului corect.

- Islanda
- Tasmania
- Jawa
- Țara de Foc

19. Colorează cerculețul în spațiul corespunzător, astfel că vei lega lanțurile muntoase cu continentele pe care sunt situate.

	Europa	Asia	Africa	America de Sud	America de Nord
Himalaya	<input type="radio"/>	<input type="radio"/>	<input type="radio"/>	<input type="radio"/>	<input type="radio"/>
Anzi	<input type="radio"/>	<input type="radio"/>	<input type="radio"/>	<input type="radio"/>	<input type="radio"/>
Alpi	<input type="radio"/>	<input type="radio"/>	<input type="radio"/>	<input type="radio"/>	<input type="radio"/>
Apalași	<input type="radio"/>	<input type="radio"/>	<input type="radio"/>	<input type="radio"/>	<input type="radio"/>
Atlas	<input type="radio"/>	<input type="radio"/>	<input type="radio"/>	<input type="radio"/>	<input type="radio"/>

20. Colorează cerculețul în spațiul corespunzător, astfel încât să legi portul european cu râul la a cărui gură de vărsare se găsește acesta.

	Ron	Dunărea	Rin	Tamisa
Rotterdam	<input type="radio"/>	<input type="radio"/>	<input type="radio"/>	<input type="radio"/>
Londra	<input type="radio"/>	<input type="radio"/>	<input type="radio"/>	<input type="radio"/>
Marsilia	<input type="radio"/>	<input type="radio"/>	<input type="radio"/>	<input type="radio"/>