



Republika Srbsko

MINISTERSTVO OSVETY, VEDY A TECHNOLOGICKÉHO ROZVOJA
ÚSTAV PRE HODNOTENIE KVALITY VZDELÁVANIA A VÝCHOVY

TEST

ZEMEPIS

1. Vyfarbi krúžok vo vhodnom políčku tak, že označíš funkcie glóbusu a zemepisnej mapy.

	Glóbus	Zemepisná mapa
Predstavuje model Zeme.	<input type="radio"/>	<input type="radio"/>
Môže znázorniť celý svet, ale aj iba jeden štát.	<input type="radio"/>	<input type="radio"/>
Znázorňuje zmenšené vzdialenosti v prírode.	<input type="radio"/>	<input type="radio"/>
Nikdy nedeformuje povrchy z prírody.	<input type="radio"/>	<input type="radio"/>
Využíva sa na vynachádzanie sa v prírode.	<input type="radio"/>	<input type="radio"/>

2. Vyfarbi krúžok pred správnym tvrdením.

- Poludníky sú myslené polkruhové čiary, ktoré spájajú Severný a Južný pól.
- Poludníky sú myslené kruhové čiary, ktoré obkolesujú Zem v smere východ-západ.
- Poludníky sú myslené polkruhové čiary rozličnej dĺžky.
- Poludníky sú myslené kruhové čiary, ktoré obkolesujú Zem v smere západ-východ.

3. Vyfarbi krúžok vo vhodnom políčku tak, že spojíš uvedené geografické prvky mapy a zemepisné objekty.

	Fyzicko-geografické prvky	Spoločensko-geografické prvky
rieka	<input type="radio"/>	<input type="radio"/>
cesta	<input type="radio"/>	<input type="radio"/>
baňa	<input type="radio"/>	<input type="radio"/>
hora	<input type="radio"/>	<input type="radio"/>
sídlo	<input type="radio"/>	<input type="radio"/>

4. Koľko dní má priestupný rok?

Vyfarbi krúžok pred správnou odpoveďou.

- 365 dní
- 366 dní
- 364 dní
- 367 dní

5. Ak je tvrdenie správne, vyfarbi krúžok v kolónke SPRÁVNE, a ak je tvrdenie nesprávne, vyfarbi krúžok v kolónke NESPRÁVNE.

	SPRÁVNE	NESPRÁVNE
1. Jestvuje päť teplotných pásem.	<input type="radio"/>	<input type="radio"/>
2. Najdlhšia noc na planéte je v prvý zimný deň.	<input type="radio"/>	<input type="radio"/>
3. Revolúcia Zeme trvá 24 hodín.	<input type="radio"/>	<input type="radio"/>
4. Slnko sa v priebehu dňa zdanlivo pohybuje od východu smerom na západ.	<input type="radio"/>	<input type="radio"/>

6. Vyfarbi krúžok pred správnu odpoveďou.

Vodný obal Zeme sa nazýva:

- atmosféra;
 biosféra;
 hydrosféra;
 litosféra.

7. Vyfarbi krúžok pod vhodným výrazom tak, aby tvrdenie bolo správne

1. Najrozšírenejším náboženstvom v Južnej Amerike je **islam/kresťanstvo**.

2. Väčšina obyvateľov Apeninského polostrova patrí do **románskej/germánskej** skupiny národov.

3. Migrácie sú **premiestňovanie/starnutie** obyvateľstva.

4. Veková pyramída, ktorá má pravidelný tvar a širokú základňu, znázorňuje demografický obraz štátu, ktorý má **vysoký/nízky** prirodzený prírastok.

8. Ak je tvrdenie správne, vyfarbi krúžok v kolónke SPRÁVNE, a ak je tvrdenie nesprávne, vyfarbi krúžok v kolónke NESPRÁVNE.

	SPRÁVNE	NESPRÁVNE
1. Európa sa celým svojím povrchom nachádza na severnej pologuli Zeme.	<input type="radio"/>	<input type="radio"/>
2. Európa sa celým svojím povrchom nachádza na východnej pologuli Zeme.	<input type="radio"/>	<input type="radio"/>
3. Európu na západe obmýva Atlantický oceán.	<input type="radio"/>	<input type="radio"/>
4. Južná časť Európy vychádza na Stredozemné more.	<input type="radio"/>	<input type="radio"/>




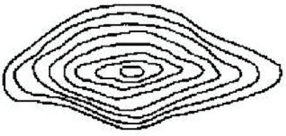

9. Vyfarbi krúžok vo vhodnom políčku tak, že spojíš pohoria s kontinentmi, na ktorých sa nachádzajú.

	Atlas	Pyreneje	Andy	Kordillery
Severná Amerika	<input type="radio"/>	<input type="radio"/>	<input type="radio"/>	<input type="radio"/>
Južná Amerika	<input type="radio"/>	<input type="radio"/>	<input type="radio"/>	<input type="radio"/>
Afrika	<input type="radio"/>	<input type="radio"/>	<input type="radio"/>	<input type="radio"/>
Európa	<input type="radio"/>	<input type="radio"/>	<input type="radio"/>	<input type="radio"/>
Ázia	<input type="radio"/>	<input type="radio"/>	<input type="radio"/>	<input type="radio"/>

10. Vyfarbi krúžok pred správnu odpoveďou.
Ak sa plavíš po prúde riekou Níl, tak cestuješ smerom na:

- západ;
 východ;
 sever;
 juh.

11. Vyfarbi krúžok vo vhodnom políčku tak, že spojíš schému izohypsy s príslušným profilom terénu.

			
	<input type="radio"/>	<input type="radio"/>	<input type="radio"/>
	<input type="radio"/>	<input type="radio"/>	<input type="radio"/>

12. Vyfarbi krúžok vo vhodnom políčku tak, že spojíš nebeské teleso s príslušným opisom.

	hviezdy	planéty	kométy	satelity
tmavé nebeské telesá, majú „hlavu“ a „chvost“	<input type="radio"/>	<input type="radio"/>	<input type="radio"/>	<input type="radio"/>
chladné nebeské telesá, ktoré obiehajú okolo planét	<input type="radio"/>	<input type="radio"/>	<input type="radio"/>	<input type="radio"/>
tmavé nebeské telesá, ktoré svetlo a teplotu dostávajú od Slnka	<input type="radio"/>	<input type="radio"/>	<input type="radio"/>	<input type="radio"/>
veľké nebeské telesá plné rozžeraveného plynu	<input type="radio"/>	<input type="radio"/>	<input type="radio"/>	<input type="radio"/>
malé tmavé nebeské telesá nepravidelného tvaru	<input type="radio"/>	<input type="radio"/>	<input type="radio"/>	<input type="radio"/>

13. Vyfarbi krúžok vo vhodnom políčku tak, že spojíš uvedené pojmy s reliéfnymi tvarmi.

	Eólske reliéfne tvary	Ladovcové reliéfne tvary	Krasové reliéfne tvary
Kotol	<input type="radio"/>	<input type="radio"/>	<input type="radio"/>
Závrt	<input type="radio"/>	<input type="radio"/>	<input type="radio"/>
Duna	<input type="radio"/>	<input type="radio"/>	<input type="radio"/>
Jaskyňa	<input type="radio"/>	<input type="radio"/>	<input type="radio"/>
Válov	<input type="radio"/>	<input type="radio"/>	<input type="radio"/>

14. Ako sa volá najznámejší teplý morský prúd v Atlantickom oceáne?
Vyfarbi krúžok pred správnou odpoveďou.

- Benguelský prúd
- Peruánsky (Humboldtov) prúd
- Golský prúd
- Labradorský prúd

15. Vyfarbi krúžok pred správnou odpoveďou.
Ak je v jednom regióne prirodzený prírastok 5 ‰, to znamená:

- že sa počet obyvateľov v tom regióne znižuje;
- že sa na každých 100 obyvateľov počet zvýši o 5 obyvateľov;
- že hrozí demografický výbuch;
- že sa na každých 1 000 obyvateľov počet zvýši o 5 obyvateľov.

16. Vyfarbi krúžok vo vhodnom políčku tak, že spojíš štát s morom, na ktoré on vychádza.

	Slovensko	Poľsko	Rumunsko	Holandsko
Čierne more	<input type="radio"/>	<input type="radio"/>	<input type="radio"/>	<input type="radio"/>
Severné more	<input type="radio"/>	<input type="radio"/>	<input type="radio"/>	<input type="radio"/>
Jadranské more	<input type="radio"/>	<input type="radio"/>	<input type="radio"/>	<input type="radio"/>
Egejské more	<input type="radio"/>	<input type="radio"/>	<input type="radio"/>	<input type="radio"/>
Baltské more	<input type="radio"/>	<input type="radio"/>	<input type="radio"/>	<input type="radio"/>

17. Vyfarbi krúžok vo vhodnom políčku tak, že spojíš pojmy s ich významom.

	prieliv	záliv	polostrov	ostrov
Tasmánia	<input type="radio"/>	<input type="radio"/>	<input type="radio"/>	<input type="radio"/>
Báb el-Mandeb	<input type="radio"/>	<input type="radio"/>	<input type="radio"/>	<input type="radio"/>
Kalifornia	<input type="radio"/>	<input type="radio"/>	<input type="radio"/>	<input type="radio"/>
Karpentársky	<input type="radio"/>	<input type="radio"/>	<input type="radio"/>	<input type="radio"/>

18. Vzhľadom na prajné podmienky pre rozvoj poľnohospodárstva jeden z uvedených ostrovov sa vyznačuje vysokou hustotou zaľudnenia. Ktorý je to ostrov?

Vyfarbi krúžok pred správnu odpoveďou.

- Island
- Tasmánia
- Jáva
- Ohňová zem

19. Vyfarbi krúžok vo vhodnom políčku tak, že spojíš pohoria s kontinentmi, na ktorých sa nachádzajú.

	Európa	Ázia	Afrika	Južná Amerika	Severná Amerika
Himaláje	<input type="radio"/>	<input type="radio"/>	<input type="radio"/>	<input type="radio"/>	<input type="radio"/>
Andy	<input type="radio"/>	<input type="radio"/>	<input type="radio"/>	<input type="radio"/>	<input type="radio"/>
Alpy	<input type="radio"/>	<input type="radio"/>	<input type="radio"/>	<input type="radio"/>	<input type="radio"/>
Apalačské vrchy	<input type="radio"/>	<input type="radio"/>	<input type="radio"/>	<input type="radio"/>	<input type="radio"/>
Atlas	<input type="radio"/>	<input type="radio"/>	<input type="radio"/>	<input type="radio"/>	<input type="radio"/>

20. Vyfarbi krúžok vo vhodnom políčku tak, že spojíš európsky prístav s riekou, na ústí ktorej sa prístav nachádza.

	Rhône	Dunaj	Rýn	Temža
Rotterdam	<input type="radio"/>	<input type="radio"/>	<input type="radio"/>	<input type="radio"/>
Londýn	<input type="radio"/>	<input type="radio"/>	<input type="radio"/>	<input type="radio"/>
Marseille	<input type="radio"/>	<input type="radio"/>	<input type="radio"/>	<input type="radio"/>