



Република Сърбия
МИНИСТЕРСТВО НА
ОБРАЗОВАНИЕТО, НАУКАТА И
ТЕХНОЛОГИЧЕСКОТО
РАЗВИТИЕ

ИНСТИТУТ ЗА ОЦЕНЯВАНЕ НА
КАЧЕСТВОТО НА
ОБРАЗОВАНИЕТО

Име и фамилно име

Клас

IV

Брой точки на теста

ТЕСТ

Група 1

4. клас на основното училище

БЪЛГАРСКИ ЕЗИК

МАТЕМАТИКА

ПРИРОДА И ОБЩЕСТВО

Инструкции за работа

Пред теб е тест, който има 20 задачи – по български език, математика и природа и общество. За решаването им са предназначени 90 минути.

Пиши четливо, на кирилица.

Имай предвид, че задачите се различават по начин, на който трябва да отговориш.

Ще решиш някои задачи, като напишеш отговора на линията. В други задачи трябва да оцветиш кръгчето пред верния отговор, както е в следния пример:

Кой вид дума е подчертаната дума в изречението?

Нина говори много добре.

Оцвети кръгчето пред верния отговор.

- съществително
- глагол
- прилагателно
- местоимение

Решението

- съществително
- глагол
- прилагателно
- местоимение

Във всяка задача трябва внимателно да прочетеш какво се изисква от тебе и как трябва да отговориш на поставения въпрос.

УСПЕШНА РАБОТА!

БЪЛГАРСКИ ЕЗИК

- 1.** В следващите примери, във всяка двойка подчертайте думата, в която е правилно употребена **буквата й**.

майор - твойи Йордан - Колийо май - мойа

- 2.** Оцвети кръгчето пред изречението, в което е употребено съществително име в множествено число.

- Пътниците седнаха край една река.
- Котката и кучето неочаквано се сприятелиха.
- Мишо постигна голям успех.
- За рождения си ден Петя иска кукла.

- 3.** В следното изречение подчертай прилагателното име.

Страшният вълк прескочи хитро оградата.

- 4.** Каква функция изпълнява подчертаната дума в изречението.

Учителката извика децата.

Оцвети кръгчето пред верния отговор.

- подлог
- сказуемо
- определение
- допълнение

- 5.** Кое от посочените изречения не принадлежи към видовете изречения по начин на изказване.

Оцвети кръгчето пред верния отговор.

- събщително
- въпросително
- просто
- възклицателно

- 6.** Защо съществителното „старецът” е членувано с пълен определителен член **ЪТ** в следното изречение:

Старецът вдигна ръце към бледия образ на божията майка.

Оцвети кръгчето пред верния отговор.

- защото в изречението съществителното име „старецът” изпълнява ролята на обстоятелствено пояснение.
- защото в изречението съществителното име „старецът” е допълнение.
- защото в изречението съществителното име „старецът” е подлог.

- 7.** Синоними на „колоритен” са думите:

Оцвети кръгчето пред верния отговор.

- цветен, цветни, живи, разкрасени
- красив, хубав, богат, разкошен
- оцветен, обагрен, украсен, ярък

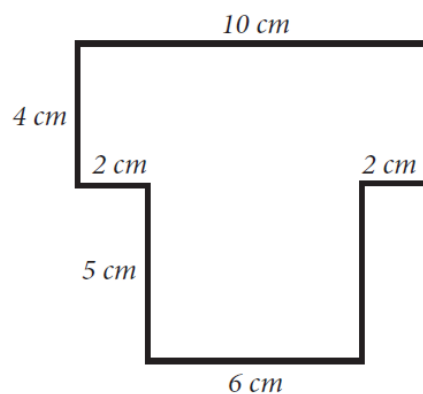
МАТЕМАТИКА

8. Изчисли:

а) $348 \cdot 6$ _____.


б) $348 : 6$ _____.

9. Изчисли обиколката на фигурата на снимката.



Обиколката на фигурата на снимката е _____ cm.

10. Милан е пестил и е успял да събере парите, показани на снимката.



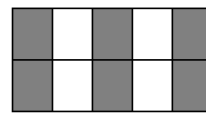
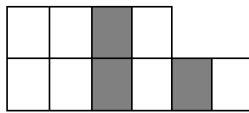
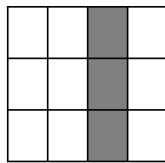
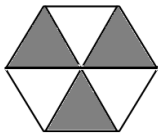
Колко пари общо е спестил Милан?

Оцвети кръгчето пред верния отговор.

- 750 динара
- 550 динара
- 570 динара
- 350 динара

11. Коя от фигурите е оцветена $\frac{3}{10}$ в сиво?

Оцвети кръгчето пред верния отговор.



12. Мира е ходила от къщи до къщата на баба си 1 час и 15 минути. При баба си е останала 50 минути, след това се завърнала къщи с баща си с автомобил за 25 минути.

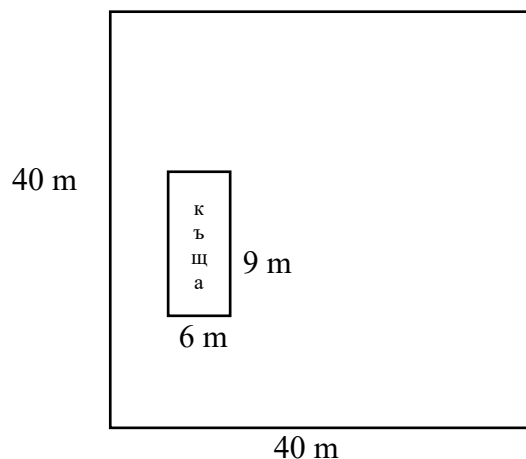
Колко минути общо Мира не е била в къщи?

Мира не е била в къщи _____ минути.

13. От сбора на числата 1 677 и 546 извади разликата на числата 468 и 39.

Отговор: _____

14. Върху квадратен парцел със страна 40m е построена правоъгълна къща с дължина 9m и ширина 6m. Колко е повърхността на тревната площ около къщата?



Повърхността на тревната площ е _____ m².

ПРИРОДА И ОБЩЕСТВО

15. Кой е бил предводител на Първото сръбско въстание?

Оцвети кръгчето пред верния отговор.

- Милош Обренович
- Караджордже
- цар Душан
- Петар Първи Караджорджевич

16. Марко е отбелязал в календара датата на празнуването на Деня на училището. На линията напиши коя дата и кой ден в седмицата е.

Дата: _____

Ден в седмицата: _____

| Март | | 2008 | | | | |
|------|----|------|----|----|----|----|
| п | у | с | ч | п | с | н |
| | | | | | 1 | 2 |
| 3 | 4 | 5 | 6 | 7 | 8 | 9 |
| 10 | 11 | 12 | 13 | 14 | 15 | 16 |
| 17 | 18 | 19 | 20 | 21 | 22 | 23 |
| 24 | 25 | 26 | 27 | 28 | 29 | 30 |
| 31 | | | | | | |

17. Свържи имената на важните личности със съответстващото описание, както е започнато. Едно име е излишно.

Никола Тесла •

- Открива специален вид смърч, който расте на планината Тара.

Милутин Миланкович •

- Описва релефа на нашите региони и изучава характеристиките на населението в южнославянските страни.

Стеван Мокраняц •

- След себе си оставя голям брой открития за електричеството.

Йован Цвиич •

- Най-известните му произведения са *Руковети* – петнадесет съчетания от песни с фолклорни мотиви.

Йосиф Панчич •

18. Означи с числа в квадратчето под картинките какво е движението - праволинейно, криволинейно или кръгово.
Под всяка снимка напиши отговарящото число.

- 1 – праволинейно
- 2 – криволинейно
- 3 – кръгово



19. Внимателно прочети текста.

Един изследовател се интересува от условията, при които семената на растенията ще покълват. В два буркана, върху влажна хартиена кърпичка слага няколко зърна от царевича. Единият буркан слага в добре осветлено помещение, а другия в тъмно помещение. Температурата в двете помещения е една и съща. След четири дни изследователят установява, че зърната и в двата буркана са покълнали.

Какво е заключението на изследователя от експеримента?
Допълни следното изречение.

Растението може да покълне без почва и _____!

20. Какво повече има в Сърбия – стоящи води или езера?

Коста казва, че не може да отговори на този въпрос, защото не знае точния брой езера в Сърбия. Марко смята, че Коста грeши, защото и без да се брои, може да се отговори вярно. Кой е прав?

Оцвети кръгчето пред верния отговор.

Марко

Коста

Обясни защо.
