



Република Србија
МИНИСТАРСТВО ПРОСВЕТЕ, НАУКЕ
И ТЕХНОЛОШКОГ РАЗВОЈА
ЗАВОД ЗА ВРЕДНОВАЊЕ КВАЛИТЕТА
ОБРАЗОВАЊА И ВАСПИТАЊА

Име и презиме

Одељење

IV

Број бодова на тесту

ТЕСТ

Група 1

4. разред основне школе

СРПСКИ ЈЕЗИК

МАТЕМАТИКА

ПРИРОДА И ДРУШТВО

Упутство за рад

Пред тобом је тест који има 20 задатака – из српског језика, математике и природе и друштва. За рад је предвиђено 90 минута.

Пиши читко, ћириличким словима.

Обрати пажњу на то да се задаци разликују по начину на који треба да даш одговор.

Неке задатке ћеш решавати тако што се одговор уписује на линију. У другим задацима треба да обојиш кружић испред тачног одговора, као у следећем примеру:

Којој **врсти речи** припада подвучена реч у реченици?

Нина баш лепо прича.

Обој кружић испред тачног одговора.

- именица
- глагол
- придев
- заменица

Решење

- именица
- глагол
- придев
- заменица

У сваком задатку треба пажљиво да прочиташ шта се од тебе тражи и како треба да одговориш на захтев.

СРЕЋАН РАД!

СРПСКИ ЈЕЗИК

1. У сваком пару подвуци по једну реч у којој је у писању правилно употребљено **слово ј**.

био – бијо

маица – мајица

авион – авијон

2. Обој кружић испред реченице у којој је употребљена **именица у множини**.

- Био је најбољи и у другим спортовима.
- Послушај ме и буди вреднији ђак.
- Моја школа је нестрпљиво ишчекивала пролеће.
- Мач је постајао све лакши у његовој вештој руци.

3. У следећој реченици подвуци **заменицу**.

Ускоро ћеш ти бити добра шахисткиња, видећеш!

4. Одреди **службу** подвучене речи у реченици.

Кроз таванско прозорче често сам посматрао кровове.

Обој кружић испред тачног одговора.

- предикат
- субјекат
- објекат
- прилошка одредба

5. Прочитај следећу реченицу и размисли о значењу подвучених речи у њој.

У жубору ових река чује се и глас наших очева, дедова.

Обој кружић испред одговора који има **слично значење** као подвучене речи.

- потомци
- рођаци
- преци
- наследници

6. У кружић испред сваког примера упиши одговарајући број који означава књижевну врсту. Једна књижевна врста је вишак.

1. епска народна песма 2. брзалица 3. басна 4. пословица 5. загонетка

- Курјак длаку мења, а ћуд никада.
- Поранио Краљевићу Марко
у неђељу прије јарког сунца
покрај мора Урвином планином.
- Товар носи – коњ није
Иглом бодје – шваља није. (јеж)
- Чула лисица да је вук набавио ћуп меда, па се с њим побратимила.
Па још оде код њега на становање.

7. Како је представљено дрво у следећим стиховима?

На граници света дрво спава,
Трчало за сунцем преко трава.
Где је сунце престало и пало
– ту је дрво стало и заспало.
Заспало црно, заспало...

Обој кружић испред тачног одговора.

- Дрво се пореди са сунцем.
- Дрво има особине човека.
- Дрво се описује као велико и жуто.
- Дрво је олистало у ноћи.

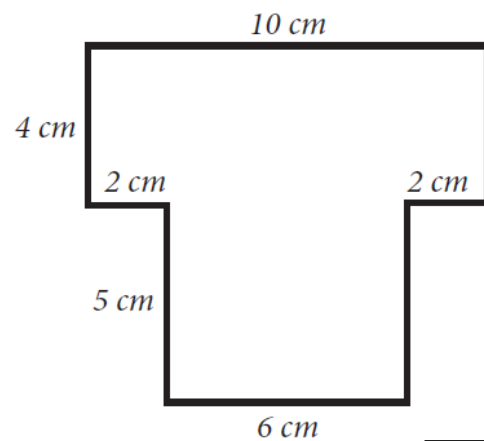
МАТЕМАТИКА

8. Израчунај:

а) $348 \cdot 6$ _____.

б) $348 : 6$ _____.

9. Израчунај обим фигуре на слици.



Обим фигуре на слици је _____ cm.

10. Милан је штедео и успео је да сакупи новац приказан на слици.

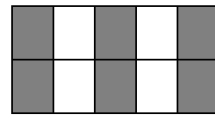
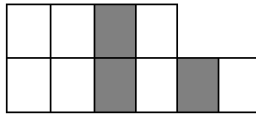
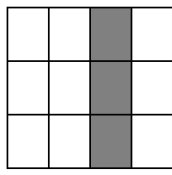
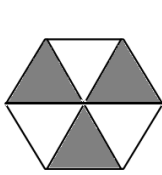


Колико је укупно Милан уштедео новца?

Обој кружић испред тачног одговора.

- 750 динара
- 550 динара
- 570 динара
- 350 динара

11. На којој слици је сивом бојом осенчено $\frac{3}{10}$ фигуре?
Обој кружић испод тачног одговора.



12. Мира је од своје до бакине куће пешачила 1 сат и 15 минута. Код баке се задржала 50 минута, а затим се са татом вратила кући колима за 25 минута.

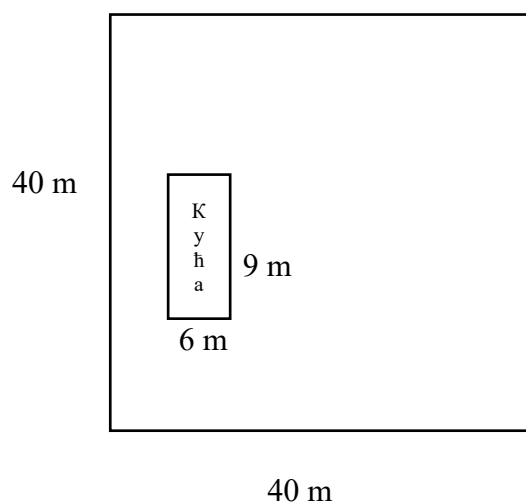
Колико је Мира укупно провела минута ван куће?

Мира је укупно провела _____ минута ван куће.

13. Од збира бројева 1 677 и 546 одузми разлику бројева 468 и 39.

Одговор: _____

14. На земљишту квадратног облика чија је страна 40 m саидана је кућа облика правоугаоника дужине 9 m и ширине 6 m.
Колика је површина преостала за травњак?



Површина травњака је _____ m².

ПРИРОДА И ДРУШТВО

15. Ко је био вођа Првог српског устанка?

Обој кружић испред тачног одговора.

- Милош Обреновић
- Карађорђе
- цар Душан
- Петар Први Карађорђевић

16. Марко је на календару обележио датум прославе Дана школе. На линији упиши који је то датум и дан у недељи.

Датум: _____

Дан у недељи: _____

Март		2008				
п	у	с	ч	п	с	н
					1	2
3	4	5	6	7	8	9
10	11	12	13	14	15	16
17	18	19	20	21	22	23
24	25	26	27	28	29	30
31						

17. Повежи линијама имена значајних личности са одговарајућим описом, као што је започето. Име једне личности је вишак.

Никола Тесла •

- Открио је посебну врсту оморице, која расте на планини Тари.

Милутин Миланковић •

- Описао је облике рељефа наших крајева и проучавао одлике становништва јужнословенских земаља.

Стеван Мокрањац •

- Иза себе је оставио велики број проналазака о електричној енергији.

Јован Цвијић •

- Најпознатија његова дела су *Руковети* – петнаест сплетова песама заснованих на фолклорним мотивима.

Јосиф Панчић •

18. Бројевима означи да ли је на слици приказано праволинијско, криволинијско или кружно кретање.
Испод сваке слике упиши одговарајући број.

- 1 – праволинијско
- 2 – криволинијско
- 3 – кружно



19. Пажљиво прочитај текст.

Једног истраживача је занимало у којим условима ће семенке биљака проклијати. У две тегле, на влажну папирнату марамицу ставио је неколико зрна кукуруза. Једну теглу је ставио у добро осветљену, а другу у замрачену просторију. У обе просторије одржавао је једнаку температуру. После четири дана истраживач је установио да је зрневље у обе тегле проклијало.

Шта је истраживач закључио на основу овог огледа?
Допуни следећу реченицу.

Биљка може да проклија без земљишта и _____!

20. Чегга има више у Србији – стајаћих вода или језера?

Коста каже да на то питање не може да одговори јер не зна тачан број језера у Србији. Марко сматра да Коста греши, јер се и без пребројавања може дати тачан одговор.

Ко је у праву?
Обој кружић испред тачног одговора.

- Марко
 - Коста
- Објасни зашто.
