



Republika e Serbisë  
MINISTRIA E ARSIMIT, SHKENCËS  
DHE ZHVILLIMIT TEKNOLOGJIK  
ENTI PËR VLERËSIMIN E CILËSISË SË  
ARSIMIT DHE TË EDUKIMIT

Emir dhe mbiemri

Klasa IV

Numri i pikëve në test

**TEST**  
**GRUPA 2**  
**Kl e 4 shkollës fillore**  
**GJUHË SHQIPE**  
**MATEMATIKË**  
**NATYRA DHE SHOQËRIA**

## Udhëzimet e punës

Para jush është një test që ka 20 detyra - nga gjuha serbe, matematika dhe natyra dhe shoqëria. Janë caktuar 90 minuta për punë.

Shkruani në mënyrë të lexueshme, me shkronja cirilike.

Vini re se detyrat ndryshojnë në mënyrën se si duhet të përgjigjeni.

Ju do të zgjidhni disa detyra duke shkruar përgjigjen në rresht. Në detyra të tjera, duhet të ngjyrosni rrethin përpara përgjigjes së saktë, si në shembullin e mëposhtëm:

Çfarë lloj fjale i përket fjala e nënvizuar në fjali?

Nina **flet** shumë mirë.

Ngjyros rrethin para përgjigjes së saktë.

- emër
- folje
- mbiemër
- përemër

### Zgjidhjet

- emër
- folje
- mbiemër
- përemër

Në çdo detyrë, duhet të lexoni me kujdes se çfarë kërkohet nga ju dhe si duhet t'i përgjigjeni kërkesës.

**PUNË TË MBARË!**

## GJUHË SHQIPE

1. Ngjyros rrethin para përgjigjes së saktë ku **fjala as** është shkruar drejtë.

- Askush s`dëgjo i as kund cicërimën e zogjëve.
- As kush s`dëgjo i askund cicërimën e zogjve.
- Askush s`dëgjo i askund cicërimën e zogjve.

2. Nënvizu **përemrin** në fjalinë e dhënë.

Skenderbeu është heroi ynë kombëtarë.

3. Përcakto **gjymtyrën** e fjalisë së nënvizuar.

Albatrosi jetonte në bregun e një oqeani.

Ngjyros rrethin para përgjigjes së saktë.

- kryefjalë
- rrethanor
- kallëzuesi

4. Në tekstin e mëposhtëm nënvizojë fjalinë kryesore.

Piktori pothuaj e kishte mbaruar portretin e bariut. Por ndiente se diçka i mungonte. Zgjati panelin dhe në brezin e bariut pikturoi susakun prej kungulli.

5. Ngjyros sinonimin e fjalës së nënvizuar në fjali.

Gjyshi ecte qetë-qetë pranë bregut të liqenit.

- shpejtë
- përherë
- dalngadalë
- gjithnjë

6. Në tekstin e mëposhtëm nënvizo fjalinë **përshkruese**.

Edhe shqiponjat janë zogj që fluturojnë në qiell.  
Shqiponja e ka sqepin të kthyer porsì grep, thonjtë porsì shtiza të mprehta, është grabitqare, ha zogj te gjallë, lepuj, breshka etj. Shqiponjat i ndërtojnë foletë e tyre në male të larta.



7. Lexoni me kujdes vargjet.

Vargjet e nënvizuara janë shembull për krahasim.

Dashuria për nënën  
Kurrë nuk mbarohet  
E me zemrën e saj  
asgjë nuk krahasohet.

As toka, as qielli,  
As paraia, as bota.

Goja e saj nxjerr  
Vec mjaltë  
E nëna kurrë stë le ne baltë.

Çfarë arriti poeti duke përdorur krahasimet në poezi?

- Ai përshkroi nënën.
- Ai krahasoi nënën me qiellin.
- Ai tha se si nëna s`ka njeri.



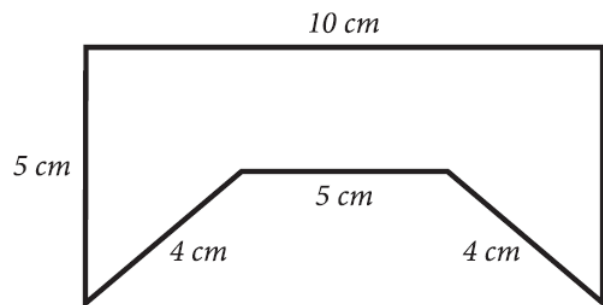
# MATEMATIKË

8. Llogaritë:

a)  $162 \cdot 6$  \_\_\_\_\_.

b)  $162 : 6$  \_\_\_\_\_.

9. Llogaritë perimetrin e figurës ne foto.



Perimetri I figurës është \_\_\_\_\_ cm.

10. Tanja ka shkuar në dyqan dhe ka marrë kartëmonedhat e treguara në foto.

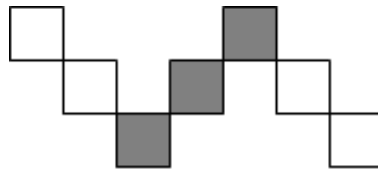


Sa para ka marrë Tanja në dyqan?

Ngjyros rrethin para përgjigjes së saktë.

- 580 din.
- 630 din.
- 780 din
- 870 din

11. Cila pjesë e figurës është e lyer me ngjyrë gri?



Ngjyros rrethin para përgjigjes së saktë.

$\frac{4}{7}$

$\frac{7}{3}$

$\frac{3}{7}$

$\frac{3}{4}$

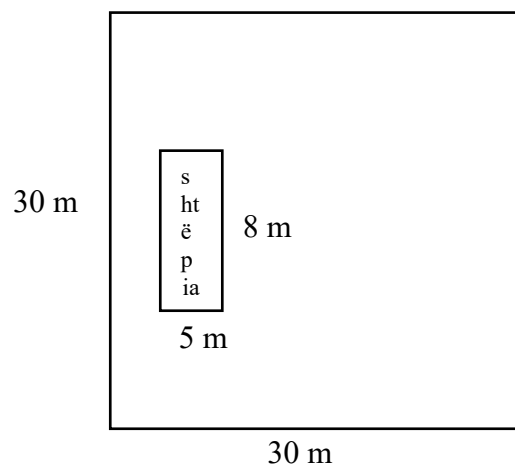
12. Mira ka ecur nga shtëpia e saj në shtëpinë e gjyshes për 1 orë e 25 minuta. Ajo qëndroi me gjyshen 40 minuta, dhe më pas ajo u kthye në shtëpi me babain e saj në 15 minuta. Sa minuta kaloi Mira gjithsej jashtë shtëpisë?

Mira kaloi gjithësejtë \_\_\_\_\_ min. jashtë shtëpisë.

13. Zbrisni ndryshimin midis numrave 693 dhe 33 nga shuma e numrave 1 056 dhe 792.

Rezultati : \_\_\_\_\_

14. Në një truall katror me faqe 30 m u ndërtua një shtëpi drejtkëndëshe 8 m e gjatë dhe 5 m e gjerë. Cila është zona e mbetur për gjelbrim?



Sipërfaqja e gjelbëruar është \_\_\_\_\_ m<sup>2</sup>.

## NATYRA DHE SHOQËRIA

15. Si quhet himni i Serbisë?

Ngjyros rrethin para përgjigjes së saktë.

- Hej, Sloveni
- Zoti I drejtësisë
- Marshi I Drinës
- Atje larg

16. Lexoni me kujdes tekstin dhe përgjigjuni pyetjes.

Njerëzit i bashkohen këtij grupi për shkak të ndarjes së punës, sepse asnjë njeri nuk mund të bëjë gjithçka. Shërbimet e ndryshme u mundësojnë të gjithë anëtarëve të këtij grupi të blejnë ushqim, të marrin trajtim mjekësor, të shkollohen dhe të ndjehen të sigurt dhe të pavarur.

Çfarë grupi është ky?

Ngjyros rrethin para përgjigjes së saktë.

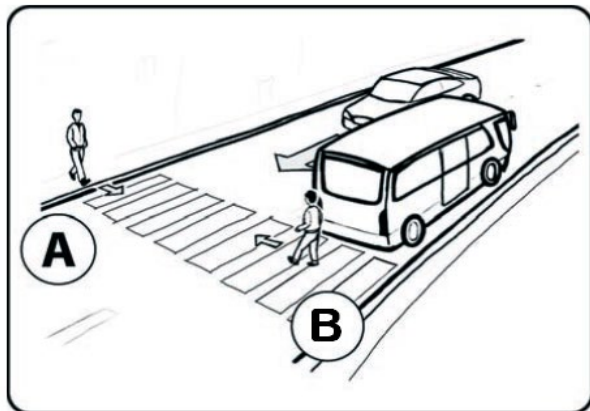
- familje
- shkollë
- spital
- banorë

17. Në foto shfaqen dy këmbësorë që kalojnë rrugën.


Cili nga këta është **në rrezik**?

Ngjyros rrethin para përgjigjes së saktë.

- këmbësori A
- këmbësori B



18. Cili punëtor do ta ketë më të lehtë të lëvizë ngarkesën?  
Ngjyros rrethin para përgjigjes së saktë.



19. Çka I pengon rrënjët e bimëve?  
Ngjyros rrethin para përgjigjes së saktë.

- larja e tokës
- ndotja e tokës
- kullimi i tokës
- plehërimi i tokës

20. Cilat nga karakteristikat e mëposhtme janë të përbashkëta për të gjitha gjallesat?  
Shkruani ✓ ne katrorë para përgjigjes së saktë.

- fluturojnë
- ushqehen
- lindin
- flasin
- vdesin
- marrin frymë