



Republika Srbija
MINISTARSTVO PROSVETE, NAUKE I
TEHNOLOŠKOG RAZVOJA
ZAVOD ZA VREDNOVANJE
KVALITETA OBRAZOVANJA I
VASPITANJA

Ime i prezime

Odjeljenje

IV

Broj bodova na testu

TEST
Grupa 2
4. razred osnovne škole
BOSANSKI JEZIK
MATEMATIKA
PRIRODA I DRUŠTVO

Uputstvo za rad

Pred tobom je test koji ima 20 zadataka iz bosanskog jezika, matematike i prirode i društva. Za rad je predviđeno 90 minuta.

Piši čitko, latiničkim slovima.

Obrati pažnju na to da se zadaci razlikuju po načinu na koji treba da daš odgovor.

Neke zadatke ćeš rješavati tako što se odgovor upisuje na liniju. U drugim zadacima treba da obojiš kružić ispred tačnog odgovora, kao u sljedećem primjeru:

Kojoj **vrsti riječi** pripada podvučena riječ u rečenici?

Hena baš lijepo priča.

Oboj kružić ispred tačnog odgovora.

- imenica
- glagol
- pridjev
- zamjenica

Rješenje

- imenica
- glagol
- pridjev
- zamjenica

U svakom zadatku treba pažljivo da pročitaš šta se od tebe traži i kako treba da odgovoriš na zahtjev.

SREĆAN RAD!

BOSANSKI JEZIK

1. Precrtaj riječi u kojima je suglasnik **J** nepravilno upotrebljen:

tražijo stadionideja jedanajest

2. U sljedećem tekstu podvuci **brojeve**:

Emina je prva stigla na livadu. Bilo je mnogo cvijeća, a na sredini jedno drvo divlje jabuke. Ubrala je dvije jabuke i četiri mirišljava cvijeta i stavila ih u korpu sa hranom.

3. U kružić ispred svake riječi, upiši odgovarajući broj koji označava **službu riječi** u datoj rečenici:

Malena djevojčica pjeva pjesmu u dvorištu.

1. subjekt 2. predikat 3. objekt 4. atribut 5. priloška odredba

- Malena
- djevojčica
- pjeva
- pjesmu
- u dvorištu

4. Oboj kružić ispred **upitne odrične rečenice**:

- Zašto si tako odgovorila?
- Ko nije znao odgovor?
- Kada počinje čas?

5. U datom tekstu podvuci **imenice**:

Mensur i Samed su najbolji drugovi. Kupili su loptu od kože. Fudbal igraju na pijesku pored parka. Lopta im često završi u granju.

6. Spoj linijama riječi **istog ili sličnog značenja**, kako je započeto:

- radost ○ ○ stanuje
mrak ○ ○ sreća
komšiluk ○ ○ tama
sićušno ○ ○ susjedstvo
živi ○ ○ maleno

7. Pažljivo pročitaj sljedeće stihove:

Začarana čudnom tajnom,
u bajci sna drijema šuma.
Sa mahramom bijelom sjajnom,
stoji jela pored drumu.

Koja je **stilska figura** upotrebljena u opisu šume i jele?

Oboj kružić ispred tačnog odgovora.

- Poređenje
 Personifikacija

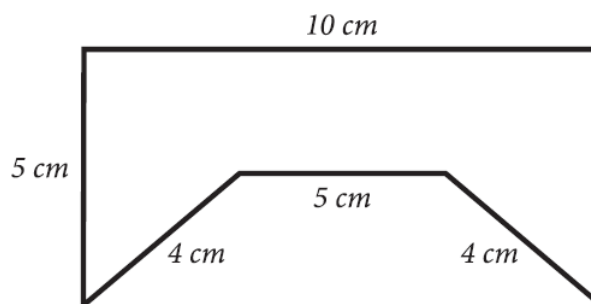
MATEMATIKA

8. Izračunaj:

a) $162 \cdot 6$ _____.


b) $162 : 6$ _____.

9. Izračunaj obim figure na slici:



Obim figure na slici je _____ cm.

10. Sajma je krenula u prodavnicu i ponijela novčanice prikazane na slici.

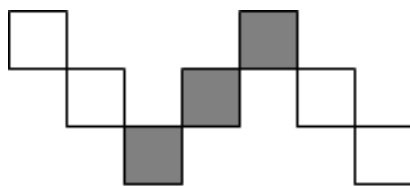


Koliko je ukupno novca Sajma ponijela u prodavnicu?

Oboj kružić ispred tačnog odgovora.

- 580 dinara
- 630 dinara
- 780 dinara
- 870 dinara

11. Koji je dio figure obojen sivom bojom?



Oboj kružić ispred tačnog odgovora.

$\frac{4}{7}$

$\frac{7}{3}$

$\frac{3}{7}$

$\frac{3}{4}$

12. Asija je od svoje do nenine kuće pješačila 1 sat i 25 minuta. Kod nene se zadržala 40 minuta, a zatim se sa ocem vratila kući kolima za 15 minuta.

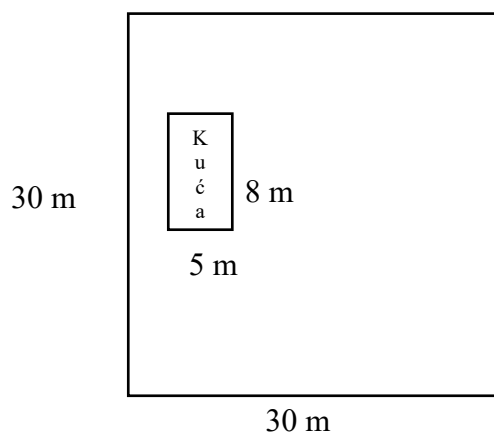
Koliko je Asija ukupno provjela minuta van kuće?

Asija je ukupno provjela _____ minuta van kuće.

13. Od zbira brojeva 1 056 i 792 oduzmi razliku brojeva 693 i 33.

Odgovor: _____

14. Na zemljištu kvadratnog oblika čija je strana 30 m sazidana je kuća oblika pravougaonika dužine 8 m i širine 5 m. Kolika je površina preostala za travnjak?



Površina travnjaka je _____ m².

PRIRODA I DRUŠTVO

15. Kako se zove himna Srbije?

Oboj kružić ispred tačnog odgovora.

- Hej, Sloveni
- Bože pravde
- Marš na Drinu
- Tamo daleko

16. Pažljivo pročitaj tekst i odgovori na pitanje:

Ljudi se udružuju u ovu grupu zbog podjele poslova, jer nijedan čovjek ne umije sve da radi. Različite službe omogućavaju svim članovima ove grupe da nabave hranu, da se liječe, školuju i da se osjećaju sigurno i bezbjedno.

Koja je ovo grupa?

Oboj kružić ispred tačnog odgovora:

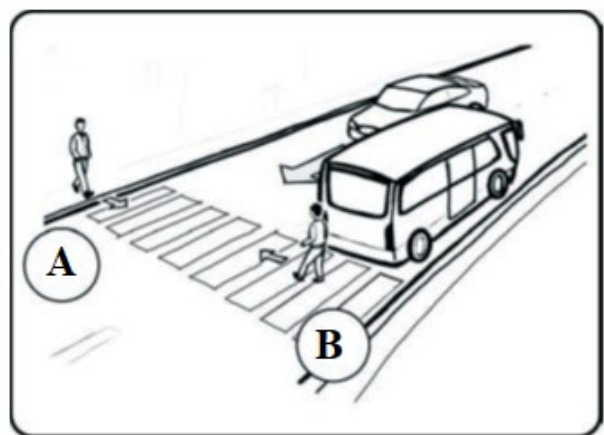
- porodica
- škola
- bolnica
- naselje

17. Na slici su prikazana dva pješaka koja prelaze ulicu.

Ko je od njih u **opasnosti**?

Oboj kružić ispred tačnog odgovora.

- pješak A
- pješak B



18. Kom radniku će biti najlakše da pokreće teret?
Oboj kružić ispred tačnog odgovora.



19. Šta korjenje biljaka spriječava?
Oboj kružić ispred tačnog odgovora.

- spiranje zemljišta
- zagađivanje zemljišta
- isušivanje zemljišta
- đubrenje zemljišta

20. Koje su od navedenih karakteristika zajedničke za sva živa bića?
Upiši ✓ u kvadratiće ispred svih tačnih odgovora.

- lete
- hrane se
- rađaju se
- govore
- umiru
- dišu