



Република Сърбия  
МИНИСТЕРСТВО НА  
ОБРАЗОВАНИЕТО, НАУКАТА И  
ТЕХНОЛОГИЧЕСКОТО  
РАЗВИТИЕ

ИНСТИТУТ ЗА ОЦЕНЯВАНЕ НА  
КАЧЕСТВОТО НА  
ОБРАЗОВАНИЕТО

Име и фамилно име

Клас

IV

Брой точки на теста

ТЕСТ  
Група 2  
4. клас на основното училище  
БЪЛГАРСКИ ЕЗИК  
МАТЕМАТИКА  
ПРИРОДА И ОБЩЕСТВО

## Инструкции за работа

Пред теб е тест, който има 20 задачи – по български език, математика и природа и общество. За изработката му са предназначени 90 минути.

Пиши четливо, на кирилица.

Имай предвид, че задачите се различават по начин, на който трябва да отговориш.

Ще решиш някои задачи, като напишеш отговора на линията. В други задачи трябва да оцветиш кръгчето пред верния отговор, както е в следния пример:

Кой вид дума е подчертаната дума в изречението?

Нина говори много добре.

Оцвети кръгчето пред верния отговор.

- съществително
- глагол
- прилагателно
- местоимение

### Решението

- съществително
- глагол
- прилагателно
- местоимение

Във всяка задача трябва внимателно да прочетеш какво се изисква от теб и как трябва да отговориш на поставения въпрос.

**УСПЕШНА РАБОТА!**

## БЪЛГАРСКИ ЕЗИК

1. На кой ред има правилна промяна на **Я** в **Е**.

Оцвети кръгчето пред верния отговор.

- голям – голями
- лято - летни
- бял - бяли
- сняг - сняжна

2. В следното изречение подчертай местоимението.

Всеки ден той отива да играе футбол.

3. С коя част на речта е изразен подлогът в следното изречение?

Четирима пътуваха с кола.

Оцвети кръгчето пред верния отговор.

- съществително
- прилагателно
- числително
- местоимение

4. Прочетете внимателно следния текст.

Тръгнал Ежко из гората. Поотбил се у Лисини.

– Как си, Лиске?

– Зле съм, Ежко.

– Какво ти е?

– От три дни болна лежа. Моля ти се, иди донеси водица!

Тръгнал Ежко за вода студена...

Оцвети кръгчето пред верния отговор

Съобщителни изречения в текста са:

- две
- три
- четири
- пет

5. Посочете словосъчетанието от прилагателно и съществително име.

Оцвети кръгчето пред верния отговор.

- стена от гранит
- пролетно утро
- лъв от бронз
- гривна от злато

6. В кой ред откриваш само съществителни имена?

Оцвети кръгчето пред верния отговор.

- огън, хитър, пиша, сънен
- старец, пролет, вятър, храст
- хрусталак, нощувка, дълбок, хубав
- хитрец, голям, нощен, нива

7. Прочетете внимателно текста:

Зиме цялата природа е заспала. Полята са затихнали. Гората спи зимния си сън. Спят и тихите избистрени реки под снега. Често вали сняг.

Оцвети кръгчето пред верния отговор.

Текстът представлява:

- преживяване
- описание
- монолог
- диалог

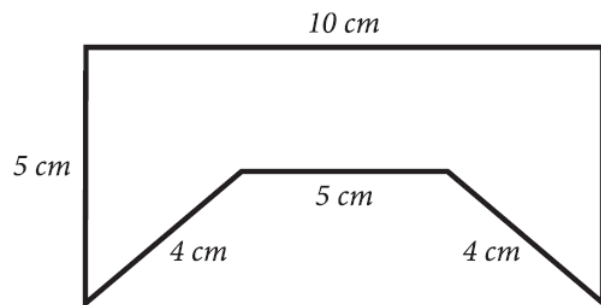
## МАТЕМАТИКА

8. Изчисли:

а)  $162 \cdot 6$  \_\_\_\_\_.

б)  $162 : 6$  \_\_\_\_\_.

9. Изчисли обиколката на фигурата от снимката.



Обиколката на фигурата от снимката е \_\_\_\_\_ cm.

10. Таня тръгна в магазина и взе банкноти, като що са представени на картината.

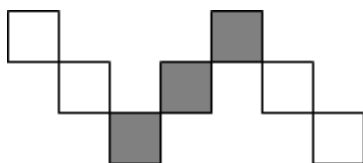


С колко пари е отишла Таня в магазина?

Оцвети кръгчето пред верния отговор.

- 580 динара
- 630 динара
- 780 динара
- 870 динара

11. Коя част от фигурата е оцветена в сиво?



Оцвети кръгчето пред верния отговор.

$\frac{4}{7}$

$\frac{7}{3}$

$\frac{3}{7}$

$\frac{3}{4}$

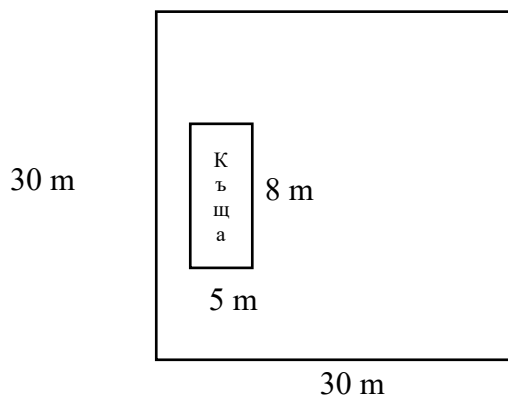
12. Мира е тръгнала от вкъщи си и до къщата на баба си е ходила 1 час и 25 минути. При баба си е седяла 40 минути, а след това с баща си се е върнала вкъщи за 15 минути с автомобил. Колко минути общо Мира прекара извън своята къща?

Мира прекара общо \_\_\_\_\_ минути извън своята къща.

13. От сбора на числата 1 056 и 792 извади разликата на числата 693 и 33.

Отговор: \_\_\_\_\_

14. Върху квадратен парцел със страна 30 m е построена правоъгълна къща с дължина 8 m и широчина 5 m. Колко повърхност остава около къщата за тревна площ?



Повърхността на тревната площ е \_\_\_\_\_ m<sup>2</sup>.

## ПРИРОДА И ОБЩЕСТВО

15. Как е назваанието на химна на Сърбия?

Оцвети кръгчето пред верния отговор.

- Хей, Славяни
- Божия правда
- Марш на Дрина
- Тамо далече

16. Внимателно прочети текста и отговори на въпроса.

Хората се присъединяват към тази група, заради разделението на труда, защото никой чужек не умее да прави всичко. Различните услуги позволяват на всички членове на тази група да се снабдят с храна, да получат медицинско лечение, училище и да се чувстват сигурни и защитени.

За коя група става въпрос?

Оцвети кръгчето пред верния отговор.

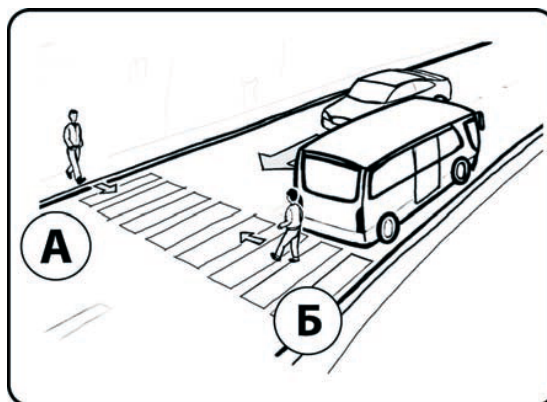
- семейство
- училище
- болница
- селище – (квартал)

17. На снимката се виждат двама пешеходци, които пресичат улицата.



Кой от тях е в **опасност**?

Оцвети кръгчето пред верния отговор.

- Пешеходецът А
- Пешеходецът Б



18. Кой работник най-лесно ще задвижи товара?  
Оцвети кръгчето пред верния отговор.



19. Какво предотвратяват корените на растенията?

Оцвети кръгчето пред верния отговор.

- Свличане на почвата
- Замърсяване на на почвата
- изсушаване на почвата
- торене на почвата

20. Кои от дадените характеристики са **общи за всички живи същества**?

Означи с ✓ в квадратчетата пред всички верни отговори.

- летят
- хранят се
- раждат се
- говорят
- умират
- дишат