



Republika Srbija
MINISTARSTVO PROSVETE, NAUKE I
TEHNOLOŠKOG RAZVOJA
ZAVOD ZA VREDNOVANJE
KVALITETA OBRAZOVANJA I
VASPITANJA

Ime i prezime

Razred IV.

Broj bodova na testu

TEST
Grupa 2
4. razred osnovne škole
HRVATSKI JEZIK
MATEMATIKA
PRIRODA I DRUŠTVO

Upute za rad

Pred tobom je test koji ima 20 zadataka: iz hrvatskog jezika, matematike i prirode i društva. Vrijeme je predviđeno za rad 90 minuta.

Piši čitko!

Obrati pozornost! Zadatci se razlikuju po načinu na koji trebaš dati odgovor.

Neke ćeš zadatke rješavati tako što ćeš odgovor upisati na crtu. U drugim zadacima trebaš obojiti kružić ispred točnog odgovora, kao u sljedećem primjeru:

Kojoj vrsti riječi pripada podcrtana riječ u rečenici?

Nina baš lijepo govori.

Oboji kružić ispred točnog odgovora.

- imenica
- glagol
- pridjev

Rješenje

- imenica
- glagol
- pridjev

U svakome zadatku trebaš pažljivo pročitati što se od tebe traži i kako trebaš odgovoriti na traženo.

SRETNNO!

HRVATSKI JEZIK

1. Oboj kružić ispred upitne rečenice.

- Diži se!
- Jesmo li ponijeli jabuke na izlet?
- Mama je spakirala košaricu jabuka.
- Sunce baš jako sja na livadi.

2. Pročitaj ulomak iz teksta *Nebeska škola* pa izdvoji glagole.

Što sve oblaci uče u školi?
Uče kako se s vjetrom boriti,
Kako se u sive oblake pretvoriti...
Đurđica Grgić-Dumešić

_____ , _____ , _____ , _____ .

3. Stavi odgovarajuće znakove i obilježi upravni govor.

Učiteljica pita Ivana Zašto nisi napisao zadaću

Nisam mogao, tata nije bio kod kuće odgovori Ivan

4. Prepiši rečenice pisanim slovima. Pazi na uporabu velikoga početnog slova.

MARKO IDE U ČETVRTI RAZRED OSNOVNE ŠKOLE VLADIMIR NAZOR
KOJA SE NALAZI U ULICI BRAĆE RADIĆA U SUBOTICI.

5. Na crte napiši riječi suprotnoga značenja.

odčepiti - _____ sreća - _____

crno - _____ poraz - _____

6. Koja je od sljedećih rečenica uzeta iz dječje enciklopedije? Zaokruži slovo ispred točnog odgovora.

- Uplašena gatalinka nevjerojatnom brzinom promijenila je boju i izgubila se u šipražju.
- U vrtu moje bake pronašao sam gatalinku.
- Gatalinka većinu vremena provodi na stablu ili grani, dugačka je do tri centimetara i jedna je od najmanjih žaba u Europi.

7. Pozorno pročitaj kitice iz pjesme Jesen i uradi zadatke.

Ona je tu. U tuzi kiše
Po poljanama tiho hoda
i kuda stiže, uvis diže
Usplahirena jata roda.

Polako penje se u brda,
A kuda prođe, njezin put
Od otpalog je lišća žut
I u dol njime idu krda.

Dobriša Cesarić

Što je tema ove pjesme?

Zaokruži slovo ispred točnog odgovora.

- šuštanje lišća
- dolazak jeseni
- dolazak zime

Podcrtaj dvije pjesničke slike.

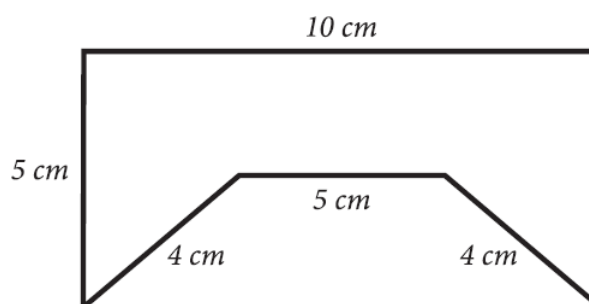
MATEMATIKA

8. Izračunaj:

a) $162 \cdot 6$ _____.

b) $162 : 6$ _____.

9. Izračunaj opseg lika na slici.



Opseg je lika na slici _____ cm.

10. Tereza je pošla u prodavaonicu i ponijela novčanice prikazane na slici.

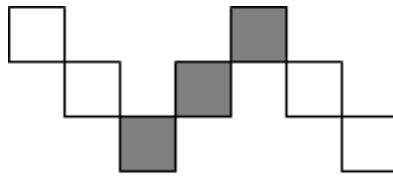


Koliko je ukupno novca Tereza ponijela u prodavaonicu?

Oboji kružić ispred tačnog odgovora.

- 580 dinara
- 630 dinara
- 780 dinara
- 870 dinara

11. Koji je dio figure obojen sivom bojom?



Oboji kružić ispred točnog odgovora.

$\frac{4}{7}$

$\frac{7}{3}$

$\frac{3}{7}$

$\frac{3}{4}$

12. Mirjam je od svoje do bakine kuće pješačila 1 sat i 25 minuta. Kod bake se zadržala 40 minuta, a zatim se s tatom vratila doma automobilom za 15 minuta.

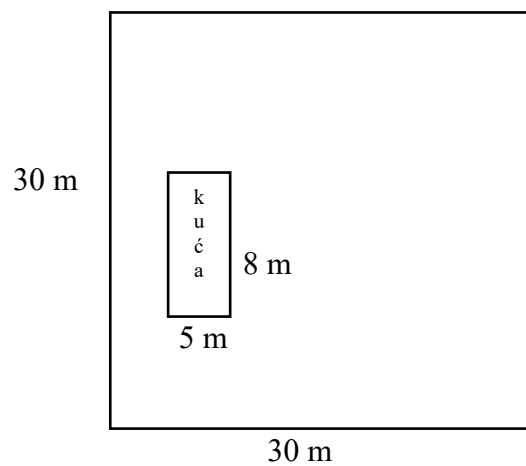
Koliko je Mirjam ukupno provela minuta izvan doma?

Mirjam je ukupno provela _____ minuta izvan doma.

13. Od zbroja brojeva 1 056 i 792 oduzmi razliku brojeva 693 i 33.

Odgovor: _____

14. Na tlu kvadratnog oblika čija je strana 30 m sazidana je kuća oblika pravokutnika duljine 8 m i širine 5 m. Kolika je površina preostala za travnjak?



Površina je travnjaka _____ m².

PRIRODA I DRUŠTVO

15. Kako se zove himna Srbije?

Oboji kružić ispred točnog odgovora.

- Hej, Sloveni
- Bože pravde
- Marš na Drinu
- Tamo daleko

16. Pozorno pročitaj tekst i odgovori na pitanje.

Ljudi se udružuju u ovu grupu zbog podjele poslova, jer nijedan čovjek ne umije sve sam raditi. Različite službe omogućuju svim članovima ove grupe nabaviti hranu, liječiti se, školovati se i osjećati se sigurno.

Koja je ovo grupa?

Oboji kružić ispred točnog odgovora.

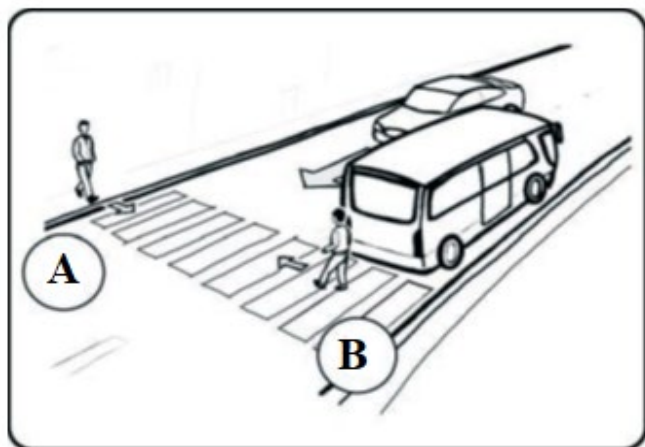
- obitelj
- škola
- bolnica
- naselje

17. Na slici su prikazana dva pješaka koja prelaze ulicu.


Koji je od njih u **opasnosti**?

Oboji kružić ispred točnog odgovora.

- pješak A
- pješak B



18. Kojemu će radniku biti najlakše pokrenuti teret?
 Oboji kružić ispred točnog odgovora.



19. Oboji kružić ispred točnog odgovora.

Nastavi rečenicu:
 Korijen biljaka sprečava

- spiranje tla.
- onečišćenje tla.
- isušivanje tla.
- prihranu tla.

20. Koje su od navedenih karakteristika **zajedničke za sva živa bića**?

Upiši ✓ u kvadratiće ispred svih točnih odgovora.

- lete
- hrane se
- rađaju se
- govore
- umiru
- dišu