



Republica Serbia
MINISTERUL ÎNVĂȚĂMÂNTULUI,
ȘTIINȚEI ȘI DEZVOLTĂRII
TEHNOLOGICE
INSTITUTUL PENTRU EVALUAREA
CALITĂȚII ÎNVĂȚĂMÂNTULUI ȘI
EDUCAȚIEI

Prenumele și numele

Clasa a

IV-a

Numărul total de puncte

Test
Grupa 2
Clasa a IV-a a școlii
elementare
LIMBA ROMÂNĂ
MATEMATICĂ
NATURĂ ȘI SOCIETATE

Instrucțiuni de lucru

În fața ta este un test care conține 20 de întrebări - din limba română, matematică și natură și societate. Timpul prevăzut pentru a răspunde la întrebări este 90 de minute.

Scrie clar și citeț.

Fii atent la exerciții, pentru că modul în care trebuie să răspunzi este diferit.

La unele exerciții răspunsul trebuie scris pe linie. La alte exerciții trebuie să colorezi cerculețul din fața răspunsului corect, ca în exemplul următor:

Ce **parte de vorbire** este cuvântul subliniat ?

Nina vorbește frumos.

Colorează cerculețul din fața răspunsului corect.

- substantiv
- verb
- adjectiv
- pronume

Rezolvare

- substantiv
- verb
- adjectiv
- pronume

Fiecare exercițiu trebuie să îl citești cu atenție ca să știi care sunt cerințele și cum trebuie să răspunzi.

Îți dorim succes!

LIMBA ROMÂNĂ

1. Două cuvinte din propozițiile date **nu sunt scrise corect**.

Subliniază cuvintele care nu sunt scrise corect.

Pisica doarme într-o cutie.
Ușa de la bucătărie este deschisă.
Am așezat paharele într-un dulap.

2. Subliniază **pronumele** din propoziția următoare.

Jacheta ta are fermoarul rupt.

3. În propoziția „La munte va fi zăpadă.”, cuvântul subliniat este:

Colorează cerculețul din fața răspunsului corect.

- subiect
- atribut
- predicat
- complement

4. Cărei **specii literare** îi aparține fragmentul dat.

Iar cocoșul îi răspunde:

– De vreme ce-mi zici să mă cobor, strigă pe portar să-mi deschidă ușa, și caută-l, că-i aici jos, la rădăcina copacului, în scorbura.

Colorează cerculețul din fața răspunsului corect.

- proverb
- doină
- fabulă

5. Găsește **sinonimele**.

Subliniază sinonimele cuvântului „școală”.

greșit, învățătură, vinovat, cunoștințe

6. Scrie numărul răspunsului corect în fața fiecărei propoziții.

1-Propoziție interogativă

2-Propoziție enunțiativă

3-Propoziție exclamativă

- Ce mult s-a bucurat bunica când i-a văzut !
- Avem o zi frumoasă.
- Cui i se adresează poetul în această poezie ?

7. Ce **anotimp** descrie poetul în versurile de mai jos?

Bate vântul, frunza cade
Vestejită de pe ram,
Norii se întind pe ceruri,
Ploaia-ncet lovește-n geam.

Colorează cerculețul din fața răspunsului corect.

- toamna
- vara
- iarna
- primăvara

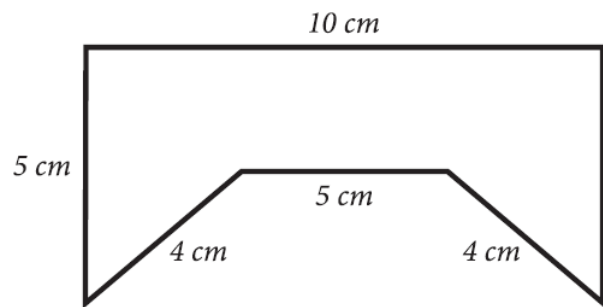
MATEMATICĂ

8. Calculează:

a) $162 \cdot 6$ _____.

b) $162 : 6$ _____.

9. Calculează perimetrul figurii date.



Perimetrul figurii este de _____ cm.

10. Tania a plecat la magazin și a luat cu ea bancnotele din imagine.

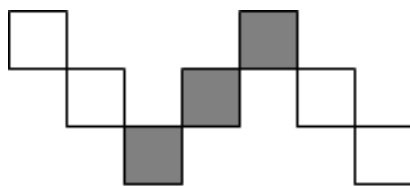


Câți bani a luat Tania cu ea la magazin?

Colorează cerculețul din fața răspunsului corect.

- 580 dinari
- 630 dinari
- 780 dinari
- 870 dinari

11. Care parte a figurii este colorată cu gri ?



Colorează cerculețul din fața răspunsului corect.

$\frac{4}{7}$

$\frac{7}{3}$

$\frac{3}{7}$

$\frac{3}{4}$

12. Mira de la casa ei până la casa bunicii a mers pe jos 1 oră și 25 minute. La bunica s-a reținut 40 de minute, iar apoi s-a întors acasă cu mașina împreună cu tatăl ei în 15 minute.

Câte minute a fost Mira plecată de acasă ?

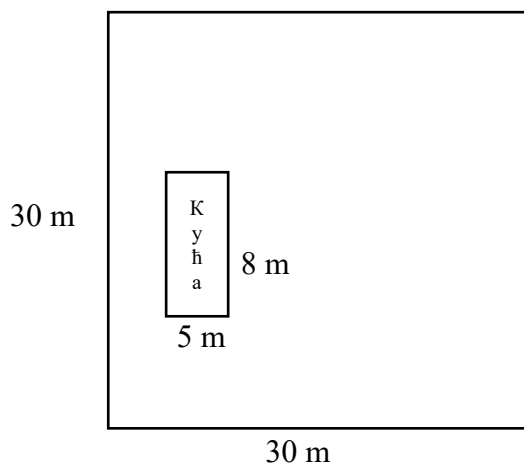
Mira a fost plecată de acasă _____ minute.

13. Din suma numerelor 1 056 și 792 scade diferența numerelor 693 și 33.

Răspuns: _____

14. Pe un teren în formă de pătrat care are latura de 30m este construită o casă în formă de dreptunghi cu lungimea de 8m și lățimea de 5m.

Cât din suprafața terenului a mai rămas pentru gazon?



Suprafața gazonului este _____ m².

NATURĂ ȘI SOCIETATEA

15. Cum se numește imnul Serbiei ?

Colorează cerculețul din fața răspunsului corect.

- Hej, Sloveni
- Bože pravde
- Marš na Drinu
- Tamo daleko

16. Citește cu atenție textul și răspunde la întrebări.

Oamenii se alătură acestui grup din cauza împărțirii muncii, pentru că niciun om nu știe să le facă pe toate. Diferite servicii permit tuturor membrilor din acest grup să procure hrana, să aibă acces la tratament medical, la educație și să se simtă siguri și în siguranță.

Care este acest grup ?

Colorează cerculețul din fața răspunsului corect.

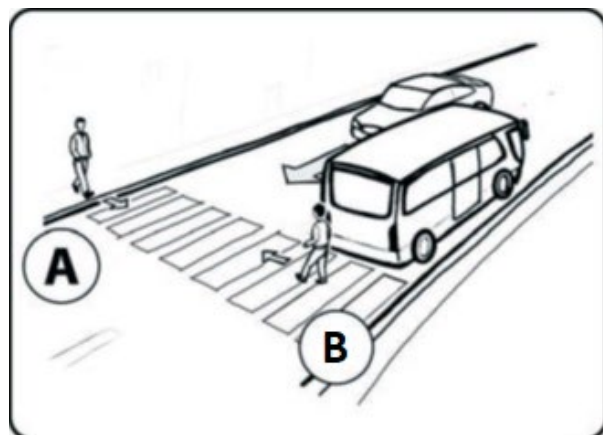
- familia
- școala
- spitalul
- localitatea

17. În imagine sunt reprezentați doi pietoni care traversează strada.

Care dintre ei este în **pericol**?

Colorează cerculețul din fața răspunsului corect.

- pietonul A
- pietonul B



18. Care muncitor mișcă mai ușor greutatea ?

Colorează cerculețul de sub imaginea corectă.



19. Ce împiedică rădăcinile plantelor ?

Colorează cerculețul din fața răspunsului corect.

- eroziunea solului
- poluarea solului
- uscarea solului
- fertilizarea solului

20. Care dintre caracteristicile enumerate sunt **comune tuturor ființelor vii**?

Scris în pătrățelele din fața răspunsurilor corecte.

- | | |
|-------------------------------------|----------------------------------|
| <input type="checkbox"/> zboară | <input type="checkbox"/> vorbesc |
| <input type="checkbox"/> se hrănesc | <input type="checkbox"/> mor |
| <input type="checkbox"/> se nasc | <input type="checkbox"/> respiră |