



ИНТЕРНО

Република Србија
МИНИСТАРСТВО ПРОСВЕТЕ
ЗАВОД ЗА ВРЕДНОВАЊЕ КВАЛИТЕТА
ОБРАЗОВАЊА И ВАСПИТАЊА

ЗАЛЕПИТИ ИДЕНТИФИКАЦИОНУ
НАЛЕПНИЦУ

ЗАВРШНИ ИСПИТ НА КРАЈУ ОСНОВНОГ ОБРАЗОВАЊА И ВАСПИТАЊА
ФУНКЦИОНАЛНО ОСНОВНО ОБРАЗОВАЊЕ ОДРАСЛИХ

ТЕСТ

ИДЕНТИФИКАЦИОНИ БРОЈ ПОЛАЗНИКА

--	--	--	--	--	--	--	--	--	--

ОСНОВНА ШКОЛА _____

МЕСТО _____

ОПШТИНА _____

ПОТПИС ДЕЖУРНОГ НАСТАВНИКА

УПУТСТВО ЗА РАД

- Тест који треба да решите има 30 задатака. За рад је предвиђено 120 минута.
- Тест садржи питања из српског језика, математике, природних и друштвених наука.
- Задатке не морате да радите према редоследу којим су дати.
- Током рада можете користити графитну оловку и гумицу.
- Коначне одговоре и поступак напишите плавом хемијском оловком.
- Одговор који је написан само графитном, црном хемијском или „пиши-бриши“ оловком неће бити признат.
- У задацима са понуђеним одговорима неће бити признати преправљени одговори.
- Обратите пажњу на то да се задаци разликују по начину на који треба да дате одговор.

У неким задацима изабраћете тачан одговор тако што ћете обојити одговарајући кружић.

У задацима у којима постоји више тачних одговора потребно је обојити више кружића. Водите рачуна о томе да кружић мора бити обојен, јер ће само тако одговор бити признат.

ПРИМЕР ОБОЈЕНИХ КРУЖИЋА

У задатку са једним тачним одговором

Који је главни град Републике Србије?
Обој кружић испред тачног одговора.

- Нови Сад
- Београд
- Ниш
- Крушевац

У задатку са више тачних одговора

Обој **кружиће** испред израза чији је збир 5.

- 2 + 3
- 1 + 2
- 4 + 1
- 2 + 4
- 3 + 5

- Ако завршите раније, предајте тест и изађите.

Желимо вам много успеха на испиту!

1. Прочитајте одломак из дела *Последњи час* Алфонса Додеа, па одговорите на питање.

Тог јутра много сам био задоцнио за школу и много сам се бојао грдње, утолико више што нам је наставник Хамел рекао да ће нас пропитивати о глаголским прилозима, а ја о њима ништа нисам знао. У једном тренутку помислих да изостанем са часа и да се прошетам пољем.

Време је било тако топло и тако лепо!

На ивици шуме певали су косови, а на Риперовој ливади, иза пилане вежбали су Немци. Све ме је мамило много више него употреба глаголских прилога; али, имао сам снаге да одолим искушењу, те отрчах ка школи.

Шта ће наставник Хамел пропитивати ученике у школи?

Обојте кружић испред тачног одговора.

- глаголске придеве
 глаголске прилоге
 глаголске начине
 глаголска времена

2. Прочитајте у табели ценовник аутобуских карата, па одговорите на питања.

ОД	ДО	Одрасли	Деца до 12 година	Пензионери
Београд	Обреновац	1 000 динара	700 динара	800 динара
Београд	Краљево	1 700 динара	1 400 динара	1 500 динара
Београд	Нови Сад	1 300 динара	1 000 динара	1 100 динара
Београд	Шабац	1 500 динара	1 200 динара	1 300 динара
Београд	Лозница	1 800 динара	1 500 динара	1 600 динара

Колико за пензионере кошта карта до Новог Сада?

Обојте кружић испред тачног одговора.

- 1 000 динара
 1 100 динара
 1 300 динара
 1 500 динара

3. Обојте кружиће испод две **именице у множини** у следећој реченици.

Данима смо гледали разне бродове у живописном заливу.

-

4. Од задатих речи изведите три нове речи додавањем суфикса, као што је започето.

Реч	Суфикс	Изведена реч
рука	-ица	ручица
одело	-це	
чешаљ	-ић	
облак	-ак	

5. Ставите глаголе из заграде у прошло време (перфекат).

Његов глас _____ (нестати) из дворишта, па _____ (чути)
поново из даљине.

6. Прочитајте неколико одредница из *Речника српскога језика* Матице српске, па одговорите на захтев.

бајка ж а. књиж. *крајка њоејска њрича фанџасџичној садржаја (о неверовајним дојађајима и фанџасџичним дићима и сџварима): народна ~, уметничка ~. б. разг. неверовајна њрича, измишљојина; њреувеличавање у њричању: причати бајке.*

баклава ж тур. *слајка њиџа од џанких кора с орасима, бадемима или лешницима, њреливена расџојљеним шећером или медом.*

балада ж фр 1. књиж. *лирско-ејска џесма џрајичној садржаја, најисана џрема некој лејенди*
2. муз. *вокална или инсџруменџална комџозиција различџој облика, џисана у сџиљу баладе.*

балерина ж *балејска ијрачица, џлесачица, чланица балејта.*

балалајка ж рус. муз. *руска народна џамбура џроујласџој облика са џри жице.*

Балканка ж (дат. -ки, ген. мн. ки) *сџановница Балканској џолуосџрва.*

Обојте кружић испред тачног одговора.

Лирско-епска песма која има трагичан садржај зове се:

- бајка;
 баклава;
 балада;
 балалајка.

7. У складу са Уставом, који језик и које писмо су у службеној употреби у Републици Србији?

Обојте кружић испред тачног одговора.

- старословенски језик и ћирилично писмо
- српски језик и ћирилично писмо
- српски језик и латиничко писмо
- српскохрватски језик и ћирилично писмо

8. Којем **књижевном роду** припада наведени одломак из дела Владислава Петковића Дуса *Можда сјава*?

Заборадио сам јутрос песму једну ја,
Песму једну у сну што сам сву ноћ слушао:
Да је чујем узалуд сам данас кушао,
Као да је песма била срећа моја сва.
Заборадио сам јутрос песму једну ја.

Обојте кружић испред тачног одговора.

- лирика
- епика
- драма

9. Прочитајте одломак из путописа *Пошера за њејзакима* Пеђе Милосављевића. Обратите пажњу на облик казивања који преовлађује у одломку.

Пред полазак на сва места дуж прозора седа златно сунце. И ускаче рој позлаћених скакаваца. Пошли су са околних поља да траже зрела жита и до костију да оглођу све вршалице на овом путу.

Колубара се крије између врба. Река у којој се нико не купа. Песак је нетакнут, бео, чедан, без голих тела, украшен једино сенкама високих кукуруза. Неколико скакаваца раздрагано искаче у овај сунчани предео са новим тајанственим нагоном.

Који облик казивања преовлађује у наведеном одломку?

Обојте кружић испред тачног одговора.

- приповедање
- описивање
- дијалог

10. Прочитајте одломак из епске народне песме *Смрти војводе Пријезде*, па одговорите на захтев.

Тад се врати војвода Пријезда,
па за собом затвори капију,
па потеже сабљу навалију,
Ждралу коњу одсијече главу:
„Јао, Ждрале, моје добро драго,
та нека те турски цар не јаше!” [...] Па отиде госпођи у дворе,
па госпођу привати за руку:
„О Јелице, госпођо разумна,
или волиш са мном погинути,
ил’ Турчину бити љуба верна?”
Сузе рони Јелица госпођа:
„Волим с тобом часно погинути
нег’ љубити на срамоту Турке;
нећу своју веру изгубити
и часнога крста погазити.”
Узеше се обоје за руке,
па одоше на беден Сталаћа,
па беседи Јелица госпођа:
„О Пријезда, драги господару,
Морава нас вода одранила,
нек Морава вода и сарани!”

Коју особину је показала Јелица у датом одломку?

Обојте кружић испред тачног одговора.

- верност
- колебљивост
- бојажљивост
- свирепост




- 11.** „Титаник” је један од десет најскупљих филмова на свету, јер је за снимање одвојено око двеста деведесет четири милиона триста хиљада долара.

Обојте кружић испред износа потрошеног за снимање овог филма.

- 200 940 300 \$
 ○ 200 943 000 \$
 ○ 290 400 300 \$
 ○ 294 300 000 \$
 ○ 294 030 000 \$
 ○ 294 003 000 \$

- 12.** Маја је купила паковање од 12 јаја. Који део паковања јој је остао када је потрошила 5 јаја?
 Обојте кружић испред тачног одговора.

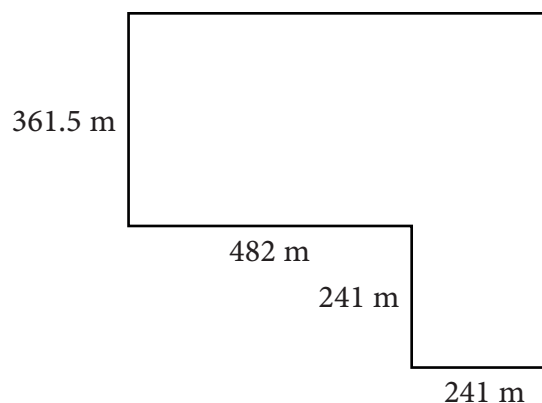
- $\frac{1}{2}$
 ○ $\frac{1}{3}$
 ○ $\frac{5}{7}$
 ○ $\frac{5}{12}$
 ○ $\frac{7}{12}$



- 13.** Општина планира да огради парцелу са спортским теренима која је приказана на слици.
 Колико метара ограде је потребно за ограђивање ове парцеле?

Обојте кружић испред тачног одговора.

- 1 325,5 m
 ○ 1 566,5 m
 ○ 1 687 m
 ○ 1 807,5 m
 ○ 2 651 m



- 14.** Никола прави зидни акваријум за своје рибице. Димензије унутрашњег дела акваријума су 119,01 cm, 59,01 cm и 19,44 cm. Колико воде Никола треба да сипа у овај акваријум да би га напунио до две трећине?

Обојте кружић испред тачног одговора.

- 119,46 cm³
- 131,64 cm³
- 197,46 cm³
- 91 015,230096 cm³
- 136 522,845144 cm³

- 15.** Процењено је да у летњем периоду у кошници може бити између $4 \cdot 10^4$ и $5 \cdot 10^4$ пчела радилица. Колики је тај распон записан у стандардном облику?

Обојте кружић испред тачног одговора.

- 40 – 50
- 400 – 500
- 4 000 – 5 000
- 40 000 – 50 000
- 400 000 – 500 000



- 16.** Марина је купила две исте чоколаде и када је касирки дала новчаницу од 1 000 динара, добила је кусур од 560 динара. Којим изразом можете да израчунате цену једне чоколаде?

Обојте кружић испред тачног одговора.

- $560 : 2$
- $(1\ 000 - 560) : 2$
- $1\ 000 : 2$
- $(1\ 000 - 560) \cdot 2$
- $(1\ 000 + 560) : 2$
- $(1\ 000 + 560) \cdot 2$

17. Растојање између два града на карти је 4 cm. Ако је размера карте 1 : 500 000, колико је растојање између та два града у природи?

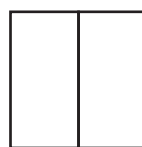
Обојте кружић испред тачног одговора.

- 2 m
 20 m
 200 m
 2 km
 20 km
 200 km

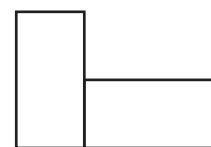
18. Квадрат обима 24 cm (слика 1) подељен је на два подударна правоугаоника од којих је направљена нова фигура (слика 2). Колики је обим фигуре са слике 2?

Обојте кружић испред тачног одговора.

- 24 cm
 27 cm
 30 cm
 33 cm
 36 cm



Слика 1



Слика 2

19. Нена и Драгана шију хаљине и сакое које продају. Оне су шиле и продавале од марта до јуна и укупно су продале 225 производа. На свака два продата сакоа, прода се 7 хаљина. Колико су сакоа продале од марта до јуна?

Обојте кружић испред тачног одговора.

- 75
 50
 25
 15

20. Два килограма ванилица и килограм кифлица са малинама Гоца плати 2 200 динара. Ако купи два килограма кифлица са малинама и килограм ванилица то ће је коштати 2 300 динара. Колико ће Гоца платити ако купи килограм ванилица и килограм кифлица са малинама?

Обојте кружић испред тачног одговора.

- 1 000 динара
- 1 100 динара
- 1 200 динара
- 1 500 динара
- 2 800 динара
- 4 200 динара



21. Колика је маса једног цака цемента?

Обојте кружић испред тачног одговора.

- 50 mg
- 50 g
- 50 kg
- 50 t

22. Како се назива оптички уређај на слици уз чију помоћ можемо прочитати текст писан веома ситним словима?

Обојте кружић испред тачног одговора.

- микроскоп
- дурбин
- телескоп
- лупа



23. Који од наведених елемената има хемијски симбол Mg?

Обојте кружић испред тачног одговора.

- натријум
- магнезијум
- водоник
- сумпор

24. Која посуда се користи за прецизно мерење запремине течне супстанце?

Обојте кружић испред тачног одговора.

- чаша
- ерленмајер
- балон
- мензура

25. Из ког дела биљке се развија плод јабуке?

Обојте кружић испред тачног одговора.

- семена
- цвета
- корена
- листа

26. Који орган човека ствара мокраћу?

Обојте кружић испред тачног одговора.

- мокраћна бешика
- мокраћовод
- бубрег
- танко црево

27. Обојте кружић испред тачног одговора.

За проналажење улица у градском насељу користите:

- карту земљишта;
- план градског насеља;
- компас;
- телескоп.

28. Која од наведених суседних земаља није чланица Европске уније?

Обојте кружић испред тачног одговора.

- Мађарска
- Северна Македонија
- Румунија
- Хрватска

29. Која од наведених група у Републици Србији има већа људска права у односу на друге?

Обојте кружић испред тачног одговора.

- припадници војске
- народни посланици
- свештенство и монаси
- сви имају иста права

30. Одреди век и деценију за 1912. годину, када је почео Први балкански рат.

Обојте кружић испред тачног одговора.

- прва деценија XX века
- прва деценија XIX века
- друга деценија XX века
- десета деценија XIX века

ПРАЗНА СТРАНА

Резултат на тесту

Функционално основно образовање одраслих

Напомена: Полазници НЕ попуњавају ову страну!

Укупан резултат на тесту
(од 0 до 60)

		,	
--	--	---	--

Комисија:

1. _____

2. _____

3. _____

Контролор:

4. _____

Резултат на нивоу задатка

Број задатка	Непопуњени	0 бодова	1 бод	2 бода
1.	<input type="checkbox"/>	<input type="checkbox"/>	<input type="checkbox"/>	<input type="checkbox"/>
2.	<input type="checkbox"/>	<input type="checkbox"/>	<input type="checkbox"/>	<input type="checkbox"/>
3.	<input type="checkbox"/>	<input type="checkbox"/>	<input type="checkbox"/>	<input type="checkbox"/>
4.	<input type="checkbox"/>	<input type="checkbox"/>	<input type="checkbox"/>	<input type="checkbox"/>
5.	<input type="checkbox"/>	<input type="checkbox"/>	<input type="checkbox"/>	<input type="checkbox"/>
6.	<input type="checkbox"/>	<input type="checkbox"/>	<input type="checkbox"/>	<input type="checkbox"/>
7.	<input type="checkbox"/>	<input type="checkbox"/>	<input type="checkbox"/>	<input type="checkbox"/>
8.	<input type="checkbox"/>	<input type="checkbox"/>	<input type="checkbox"/>	<input type="checkbox"/>
9.	<input type="checkbox"/>	<input type="checkbox"/>	<input type="checkbox"/>	<input type="checkbox"/>
10.	<input type="checkbox"/>	<input type="checkbox"/>	<input type="checkbox"/>	<input type="checkbox"/>
11.	<input type="checkbox"/>	<input type="checkbox"/>	<input type="checkbox"/>	<input type="checkbox"/>
12.	<input type="checkbox"/>	<input type="checkbox"/>	<input type="checkbox"/>	<input type="checkbox"/>
13.	<input type="checkbox"/>	<input type="checkbox"/>	<input type="checkbox"/>	<input type="checkbox"/>
14.	<input type="checkbox"/>	<input type="checkbox"/>	<input type="checkbox"/>	<input type="checkbox"/>
15.	<input type="checkbox"/>	<input type="checkbox"/>	<input type="checkbox"/>	<input type="checkbox"/>
16.	<input type="checkbox"/>	<input type="checkbox"/>	<input type="checkbox"/>	<input type="checkbox"/>
17.	<input type="checkbox"/>	<input type="checkbox"/>	<input type="checkbox"/>	<input type="checkbox"/>
18.	<input type="checkbox"/>	<input type="checkbox"/>	<input type="checkbox"/>	<input type="checkbox"/>
19.	<input type="checkbox"/>	<input type="checkbox"/>	<input type="checkbox"/>	<input type="checkbox"/>
20.	<input type="checkbox"/>	<input type="checkbox"/>	<input type="checkbox"/>	<input type="checkbox"/>
21.	<input type="checkbox"/>	<input type="checkbox"/>	<input type="checkbox"/>	<input type="checkbox"/>
22.	<input type="checkbox"/>	<input type="checkbox"/>	<input type="checkbox"/>	<input type="checkbox"/>
23.	<input type="checkbox"/>	<input type="checkbox"/>	<input type="checkbox"/>	<input type="checkbox"/>
24.	<input type="checkbox"/>	<input type="checkbox"/>	<input type="checkbox"/>	<input type="checkbox"/>
25.	<input type="checkbox"/>	<input type="checkbox"/>	<input type="checkbox"/>	<input type="checkbox"/>
26.	<input type="checkbox"/>	<input type="checkbox"/>	<input type="checkbox"/>	<input type="checkbox"/>
27.	<input type="checkbox"/>	<input type="checkbox"/>	<input type="checkbox"/>	<input type="checkbox"/>
28.	<input type="checkbox"/>	<input type="checkbox"/>	<input type="checkbox"/>	<input type="checkbox"/>
29.	<input type="checkbox"/>	<input type="checkbox"/>	<input type="checkbox"/>	<input type="checkbox"/>
30.	<input type="checkbox"/>	<input type="checkbox"/>	<input type="checkbox"/>	<input type="checkbox"/>

Упишите ✕ на одговарајуће место.