



Шифра ученика: |

Укупан број бодова: |

Република Србија
МИНИСТАРСТВО ПРОСВЕТЕ
ЗАВОД ЗА ВРЕДНОВАЊЕ КВАЛИТЕТА ОБРАЗОВАЊА И ВАСПИТАЊА

школска 2023/2024. година

ТЕСТ

ТЕОРИЈА МУЗИКЕ

МУЗИЧКИ САРАДНИК

ПРИЈЕМНИ ИСПИТ ЗА ПРОВЕРУ ПОСЕБНИХ СПОСОБНОСТИ УЧЕНИКА
КОЈИ СЕ УПИСУЈУ У У ПРВИ РАЗРЕД СРЕДЊЕ МУЗИЧКЕ ШКОЛЕ
ШКОЛСКА 2024/2025. ГОДИНА

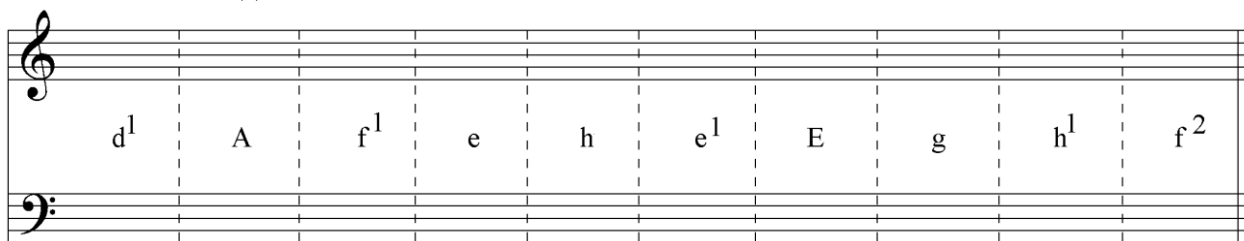
УПУТСТВО ЗА РАД

- Пред тобом је тест из теорије музике. Тест који треба да решиш има 10 задатака, а за рад је предвиђено **60 минута**. Сваки задатак најпре пажљиво прочитај и размисли о томе шта се у њему тражи.
- Пажљиво прочитај текст сваког задатка јер је у њему објашњено на који начин треба да одговориш (упиши, напиши, одреди, именуј, сагради).
- У квадрат који се налази са десне стране задатка немој ништа уписивати, то је простор у који се уписује број бодова. Током решавања задатака можеш да користиш графитну оловку и гумицу. Током рада не смеш да користиш мобилни телефон.
- На овој и последњој страни немој ништа уписивати.
- Тест мораш да попуниш **хемијском оловком**. Задатке решавај прво графитном оловком јер тако имаш могућност да, уколико уочиш грешку, ту грешку исправиш.
- Пре него што предаш тест, провери своје одговоре још једном, а потом све одговоре напиши хемијском оловком. Одговор који је написан само графитном оловком неће бити признат, као ни одговор који је прецртаван и исправљан хемијском оловком.
- Ако завршиш раније, предај тест дежурном наставнику и тихо изађи да не сметаш другима.

Желимо ти много успеха на пријемном испиту!

* Тестове, као ни делове тестова, није дозвољено умножавати нити јавно објављивати без претходне сагласности Министарства просвете.

1. Упиши задате ноте:



A musical staff with a treble clef and a bass clef. The notes are written as follows: d¹, A, f¹, e, h, e¹, E, g, h¹, f². The notes are placed in the spaces between vertical dashed lines.

2. Упиши одговарајуће **предзнаке** за задате лествице:

a) б) в) г)



Four empty musical staves, each with a treble clef, arranged horizontally.

H-dur

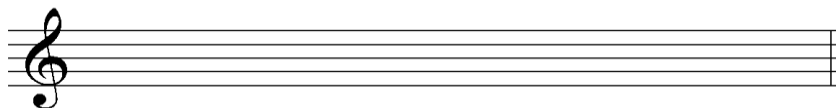
c-moll

B-dur

e-moll


3. Напиши тонове следећих лествица:

a)
A-dur



An empty musical staff with a treble clef.


б)
d-moll хармонски



An empty musical staff with a bass clef.


4. Одреди тип следећих тетраchorда:

a)



A musical staff with a treble clef containing four quarter notes: C₄, D₄, E₄, and F₄.

б)



A musical staff with a treble clef containing four quarter notes: C₄, D₄, E₄, and F₄.

5. Напиши интервале од следећих тонова **навише**:

м.3 в.2 ч.5 ч.4 в.2 м.6

6. Напиши интервале од следећих тонова **наниже**:

м.3 ч.4 ч.5 м.7 в.6 м.2

7. Именуј следеће интервале:

а) б) в) г) д)

8. Напиши наведене акорде на задатим тоновима **навише**:

а) б) в) г)

м 5/3 d 5/3 м 6/3 d 6/3

9. Напиши акорде на главним ступњевима **d-moll-a** (хармонски) и означи ступњење:

10. У задатим тоналитетима сагради наведене акорде:

а) б) в) г)

D 7 A-dur-a

D 7 c-moll-a

D7 H-dur-a

D 7 F-dur-a

Напомена: Ученици НЕ попуњавају ову страну!

Комисија:

1. _____

2. _____

3. _____

Контролор:

4. _____

Школа	
Место	
Презиме и име ученика	