



Шифра ученика: |

Укупан број бодова: |

Република Србија

МИНИСТАРСТВО ПРОСВЕТЕ, НАУКЕ И ТЕХНОЛОШКОГ РАЗВОЈА
ЗАВОД ЗА ВРЕДНОВАЊЕ КВАЛИТЕТА ОБРАЗОВАЊА И ВАСПИТАЊА

школска 2021/2022. година

ТЕСТ

ТЕОРИЈА МУЗИКЕ

МУЗИЧКИ САРАДНИК

ПРИЈЕМНИ ИСПИТ ЗА ПРОВЕРУ ПОСЕБНИХ СПОСОБНОСТИ УЧЕНИКА
КОЈИ СЕ УПИСУЈУ У У ПРВИ РАЗРЕД СРЕДЊЕ МУЗИЧКЕ ШКОЛЕ
ШКОЛСКА 2022/2023. ГОДИНА


УПУТСТВО ЗА РАД

- Пред тобом је тест из теорије музике. Тест који треба да решиш има 10 задатака, а за рад је предвиђено **60 минута**. Сваки задатак најпре пажљиво прочитај и размисли о томе шта се у њему тражи.
- Пажљиво прочитај текст сваког задатка јер је у њему објашњено на који начин треба да одговориш (упиши, напиши, одреди, именуј, сагради).
- У квадрат који се налази са десне стране задатка немој ништа уписивати, то је простор у који се уписује број бодова. Током решавања задатака можеш да користиш графитну оловку и гумицу. Током рада не смеш да користиш мобилни телефон.
- На овој и последњој страни немој ништа уписивати.
- Тест мораш да попуниш **хемијском оловком**. Задатке решавај прво графитном оловком јер тако имаш могућност да, уколико уочиш грешку, ту грешку исправиш.
- Пре него што предаш тест, провери своје одговоре још једном, а потом све одговоре напиши хемијском оловком. Одговор који је написан само графитном оловком неће бити признат, као ни одговор који је прецртаван и исправљан хемијском оловком.
- Ако завршиш раније, предај тест дежурном наставнику и тихо изађи да не сметаш другима.

Желимо ти много успеха на пријемном испиту!

* Тестове, као ни делове тестова, није дозвољено умножавати нити јавно објављивати без претходне сагласности Министарства просвете, науке и технолошког развоја.


1. Упиши задате ноте:



g¹ c² a¹ g^{is} des¹ fis¹ h¹ a e¹ cis²

2. Упиши одговарајуће **предзнаке** за задате лествице:


a) б) в) г)




G-dur d-moll B-dur e-moll

3. Напиши тонове следећих лествица:

a) D-dur




б) a-moll хармонски




4. Одреди тип следећих тетрахоарда:

a)



б)



5. Напиши интервале од следећих тонова **навише**:

м.3 в.2 ч.4 ч.5 в.3 м.6

6. Напиши интервале од следећих тонова **наниже**:

м.2 ч.5 ч.4 м.7 в.6 м.3

7. Именуј следеће интервале:

а) б) в) г) д)

8. Напиши наведене акорде на задатим тоновима **навише**:

а) б) в) г)

d 5/3 m 5/3 m 6/3 d 6/3

9. Напиши акорде на главним ступњевима **a-moll-a** (хармонски) и означи ступњеve:

10. У задатим тоналитетима сагради наведене акорде:

а) б) в) г)

D 7 G- dur-a

D 7 a-moll-a

D 7 C-dur-a

D 7 D-dur-a

Име и презиме: _____

Школа и место: _____

Датум: _____

Комисија:

1. _____

1. _____

2. _____

Укупно бодова: [__][__][__]

(100)